

KURATORIUM OŚWIATY
W KRAKOWIE

Kod ucznia

Małopolski Konkurs Geograficzny
dla uczniów szkół podstawowych województwa małopolskiego
w roku szkolnym 2019/2020

Etap rejonowy

Liczba punktów możliwych do uzyskania: 100

Suma uzyskanych punktów:

Metryczka (wypełnia komisja konkursowa):

imię i nazwisko ucznia:

szkoła:

Droga Uczennico! Drogi Uczniu!

1. Arkusz konkursu zawiera 19 zadań i brudnopis (**który nie będzie oceniany**).
2. Na rozwiązanie arkusza masz **100 minut**.
3. Sprawdź, czy zestaw pytań, który otrzymałaś/otrzymałeś, składa się z 14 stron.
4. **Nie podpisuj kartek imieniem i nazwiskiem.**
5. Podczas rozwiązywania arkusza obowiązuje **bezwzględny zakaz używania telefonów komórkowych**, tabletów, komputerów oraz innych urządzeń elektronicznych i telekomunikacyjnych.
6. W zadaniach zamkniętych prawidłowe **odpowiedzi zaznaczaj w odpowiednich miejscach symbolem x**. W większości zadań należy wybrać jedną prawidłową odpowiedź (chyba, że w poleceniu wyraźnie napisano inaczej).
7. Do zaznaczenia odpowiedzi używaj długopisu. Odpowiedzi oznaczone ołówkiem nie będą oceniane.
8. Jeśli się pomylił **błędna odpowiedź zakreśl kółeczkiem ⊗**.
9. Pamiętaj, aby nie używać korektora. Jeśli musisz poprawić błędnie wpisane słowo lub numer przekreśl je oraz wpisz właściwe.
10. Brak wyboru odpowiedzi lub zaznaczenie większej liczby odpowiedzi niż wskazano w poleceniu będzie traktowane jako błędna odpowiedź, co będzie skutkowało przyznaniem 0 pkt. za określone zadanie.
11. Staraj się, aby Twoja praca była czytelna.
12. Stwierdzenie niesamodzielności pracy lub przeszkadzanie innym spowoduje wykluczenie Cię z udziału w konkursie.
13. **Wyłącz i schowaj telefon komórkowy, jeśli go posiadasz.**

POWODZENIA!

Zadanie 1. 0-2 pkt.

Które prądy morskie powodują wzrost średniej rocznej temperatury powietrza w Europie zachodniej i północnej?

Możliwy wybór dwóch odpowiedzi.

- A. Prąd Północnoatlantycki
- B. Prąd Labradorowski
- C. Prąd Wschodniogrenlandzki
- D. Prąd Zatokowy (Golfsztrom)/Prąd Norweski

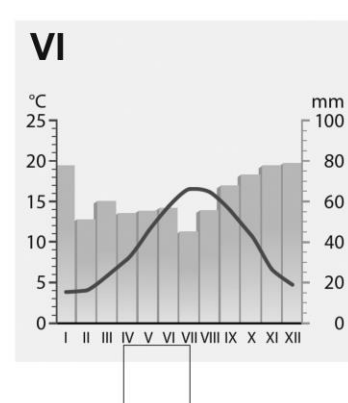
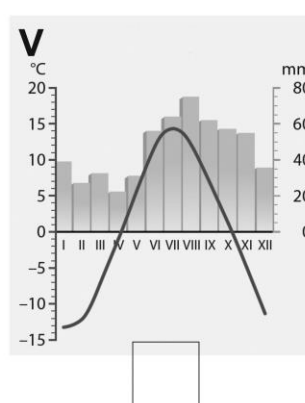
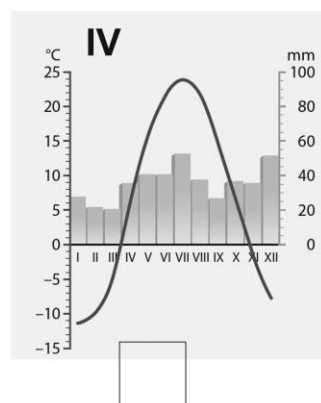
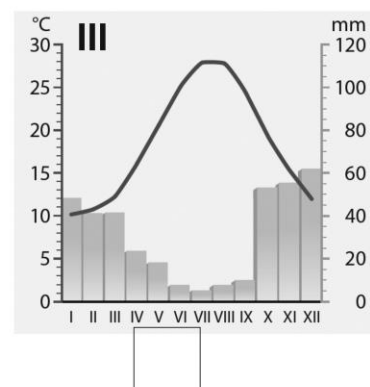
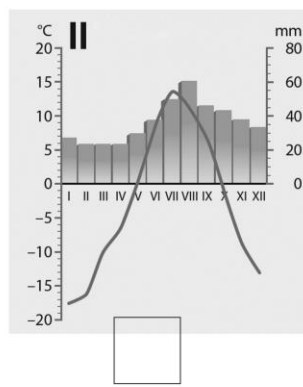
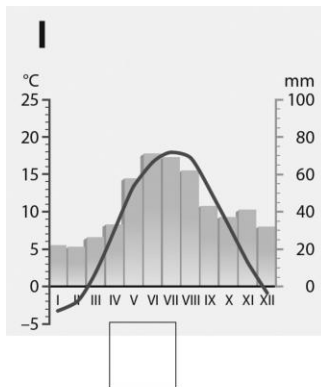
Liczba przyznanych punktów:

Zadanie 2. 0-12 pkt.

Na mapie znajdującej się na następnej stronie, zaznaczono cyframi 1- 6 miejsca, w których wykonano pomiary meteorologiczne. Przyporządkuj pasujące do nich klimatogramy, wpisując numery miejsc pomiaru z mapy w kratkę pod właściwym klimatogramem. Następnie uzupełnij tabelę przyporządkowując oznaczenie klimatogramu cyfrą rzymską (I-VI) do właściwej strefy klimatycznej.

Tabela i mapa do zadania znajdują się na następnej stronie.

Uwaga: oznaczenia klimatogramów w tabeli nie mogą się powtarzać. W przypadku powtórzeń otrzymasz 0 pkt.



Strefa klimatyczna	Klimatogramy Wpisz oznaczenia klimatogramów - cyfry rzymskie (I-VI)
strefa klimatów podzwrotnikowych	
strefa klimatów umiarkowanych	
strefa klimatów okołobiegunowych	

Liczba przyznanych punktów:



Zadanie 3. 0-12 pkt.

Na mapie **znajdującej się w zadaniu 2 (na poprzedniej stronie)** literami A-F oznaczono obszary występowania różnych typów klimatu, wymienionych w poniższej tabeli. Przyporządkuj wymienionym w tabeli typom klimatu ich oznaczenia na mapie, wpisując w pierwszej kolumnie właściwe litery (A-F). Następnie wpisz do tabeli nazwy dominującej w tym klimacie roślinności, wybierając z podanych poniżej.

Dominująca roślinność: krzewiaste zarośla (makkia), lasy iglaste (tajga), lasy liściaste, lasy mieszane (iglasto-liściaste), step, tundra.

Uwaga: oznaczenia i nazwy nie mogą się powtarzać. W przypadku powtórzeń otrzymasz 0 pkt.

Oznaczenie na mapie	Klimat	Dominująca roślinność
	umiarkowany chłodny	
	podzwrotnikowy (morski i kontynentalny)	
	umiarkowany morski	
	klimat okołobiegunowy	
	umiarkowany ciepły kontynentalny	
	umiarkowany ciepły przejściowy	

Liczba przyznanych punktów:

Zadanie 4. 0-1 pkt.

Gdzie znajdują się źródła Dunaju?

- A. w Alpach
- B. w Karpatach
- C. w Schwarzwaldzie
- D. w Lesie Bawarskim

Liczba przyznanych punktów:

Zadanie 5. 0-2 pkt.

W którym zestawieniu uporządkowano rzeki od najdłuższej do najkrótszej?

- A. Wołga, Dunaj, Ural, Dniepr, Kama
- B. Wołga, Dunaj, Dniepr, Ural, Kama
- C. Wołga, Dunaj, Ural, Kama, Dniepr
- D. Wołga, Ural, Dunaj, Kama, Dniepr

Liczba przyznanych punktów:

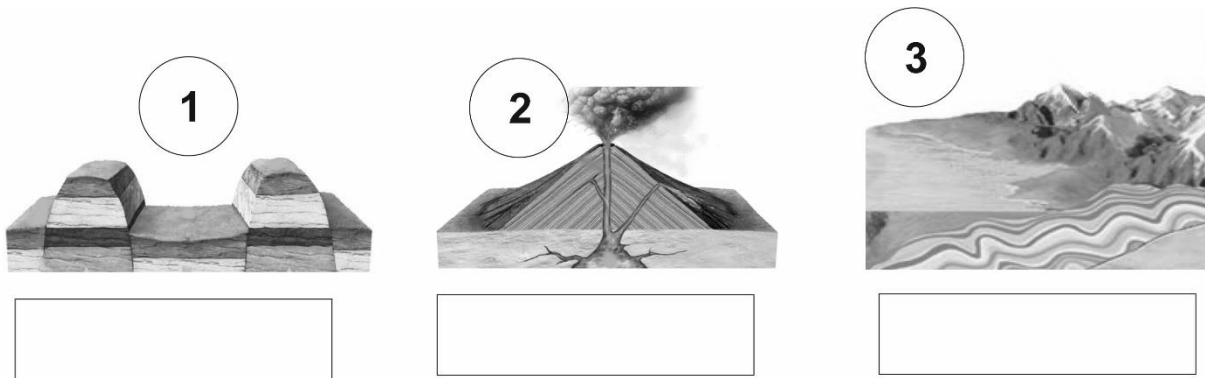
Zadanie 6. 0-21 pkt.

Wpisz w kratkach pod rysunkami nazwy rodzajów gór **ze względu na ich genezę**. Następnie uzupełnij tabelę. W kolumnie 2. wpisz nazwę pasma górskiego (góry) wskazanego na mapie, zgodnie z jego oznaczeniem na mapie (A-I). Nazwę pasma (góry) wybierz **spośród wymienionych poniżej**. W 3. kolumnie wpisz numer rysunku prezentującego genezę pasma górskiego/góry, którego nazwę wpisałaś (wpisałeś) w kolumnie 2.

Pasma górskie/góry:

Alpy, Apeniny, Etna, Góry Dynarskie, Hekla, Karpaty, Pireneje, Schwarzwald, Sudety

Mapa do zadania znajduje się na następnej stronie.



Oznaczenie na mapie	Nazwa wskazanego na mapie pasma górskiego/góry	Rodzaj gór Wpisać numer rysunku prezentującego genezę pasma górskiego/góry
A		
B		
C		
D		
E		
F		
G		
H		
I		

Liczba przyznanych punktów:



Zadanie 7. 0-2 pkt.

W krajobrazie których wysp występują: lodowce i czynne wulkany?

Możliwy wybór dwóch odpowiedzi.

- A. Islandii
- B. Irlandii
- C. Spitzbergenu
- D. Bornholmu

Liczba przyznanych punktów:

Zadanie 8. 0-2 pkt.

W którym zestawieniu uporządkowano stolice od największej do najmniejszej pod względem liczby mieszkańców?

- A. Wiedeń, Paryż, Berlin, Praga, Bratysława, Berno
- B. Berlin, Paryż, Praga, Wiedeń, Berno, Bratysława
- C. Berlin, Paryż, Wiedeń, Praga, Bratysława, Berno
- D. Berlin, Wiedeń, Paryż, Berno, Bratysława, Praga

Liczba przyznanych punktów:

Zadanie 9. 0-2 pkt.

W którym zestawieniu uszeregowano kierunki współczesnych imigracji do Polski pod względem wielkości rejestrowanych imigracji od największego do najmniejszego?

- A. Niemcy, Wielka Brytania, Stany Zjednoczone, Irlandia, Ukraina
- B. Wielka Brytania, Niemcy, Stany Zjednoczone, Ukraina, Irlandia
- C. Niemcy, Stany Zjednoczone, Wielka Brytania, Ukraina, Irlandia
- D. Irlandia, Wielka Brytania, Niemcy, Stany Zjednoczone, Ukraina

Liczba przyznanych punktów:

Zadanie 10. 0-1 pkt.

Który z poniższych krajów był najbardziej zurbanizowany w 2017 roku?

- A. Szwajcaria
- B. Niemcy
- C. Francja
- D. Belgia

Liczba przyznanych punktów:

Zadanie 11. 0-2 pkt.

W którym zestawieniu znalazły się województwa o najniższym i najwyższym poziomie urbanizacji w Polsce w 2017 roku?

- A. śląskie, podkarpackie
- B. dolnośląskie, świętokrzyskie
- C. wielkopolskie, opolskie
- D. łódzkie, małopolskie

Liczba przyznanych punktów:

Zadanie 12. 0-2 pkt.

W którym z poniższych zestawień krajów występują **wyłącznie** państwa historycznie ukształtowane przez ludy słowiańskie?

- A. Rosja, Ukraina, Chorwacja
 B. Polska, Czechy, Włochy
 C. Słowacja, Polska, Niemcy
 D. Rosja, Polska, Szwecja

Liczba przyznanych punktów:

Zadanie 13. 0-14 pkt.

W tabeli zamieszczono opisy turystyczno-geograficzne miast: Berlina, Berna, Budapesztu, Londynu, Paryża, Pragi i Wiednia. Dopasuj opisy do miast, wpisując ich nazwy obok opisów w kolumnie 2. Następnie wpisz w kolumnie 1 numer tego miasta zgodnie z jego oznaczeniem na mapie (1-7), która znajduje się na następnej stronie.

Uwaga: nazwa miasta i numer mogą być użyte tylko jeden raz (bez powtórzeń).

W przeciwnym wypadku otrzymasz 0 pkt.

Nr na mapie	Miasto	Charakterystyczne cechy miasta
		Centrum kulturowe Europy i świata, światowa stolica mody (Chanel, Christian Dior). Turystów przyciąga Luwr, bywają oni też na Montmartre, podziwiają nowoczesną dzielnicę La Défense.
		Miasto, którego symbolem jest niedźwiedź. Stare Miasto znajduje się na Liście Światowego Dziedzictwa UNESCO. Turystów zachwyca ciąg jedenastu XVI wiecznych fontann, zakończony Wieżą Zegarową. Najśłynniejszym mieszkańcem miasta był Albert Einstein.
		Nad Wełtawą górują Hradczany z monumentalną katedrą św. Wita. Nieopodal znajduje się Złota Uliczka, słynna z niewielkich, kolorowych domów, w których przed wiekami mieszkali złotnicy i alchemicy usiłujący wyprodukować złoto.
		Niegdyś miasto dzielił wysoki mur na część wschodnią i zachodnią. Jednym z najważniejszych symboli miasta jest Brama Brandenburska. W czasie adwentu turystów przyciąga jarmark bożonarodzeniowy.
		W centrum miasta, w dzielnicy City mieszczą się siedziby największych międzynarodowych firm, banków i towarzystw ubezpieczeniowych. Miasto rozsławia pałac królewski, katedra i Big Ben. Od dawna wydaje się w tym mieście czasopisma ekonomiczne „Financial Times” i „The Economist”.
		Miasto nad Dunajem, miasto zabytków (m.in. Pałac Cesarski Schönbrunn), kultury, muzyki (m.in. koncerty noworoczne), i sześciu bożonarodzeniowych jarmarków, które przyciągają turystów z całej Europy. Te najbardziej znane odbywają się m.in. przed pałacem Belvedere, na Starym Mieście, które znajduje się na Liście Światowego Dziedzictwa UNESCO.
		Największe miasto kraju słynącego z uprawy kukurydzy i słonecznika, sadów, winnic oraz papryki. Turystów zachwyca architektura, przepych i ogrom gmachu parlamentu – wizytówki tego miasta.



Liczba przyznanych punktów:

Zadanie 14. 0-2 pkt.

W których zestawieniach znajdują się regiony o najkorzystniejszych, przyrodniczych warunkach rozwoju rolnictwa w Polsce?

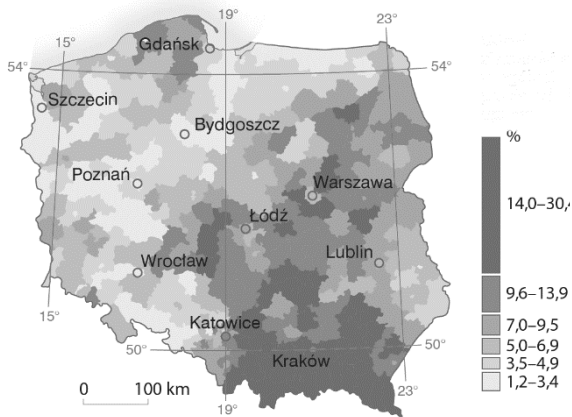
Możliwy wybór dwóch odpowiedzi.

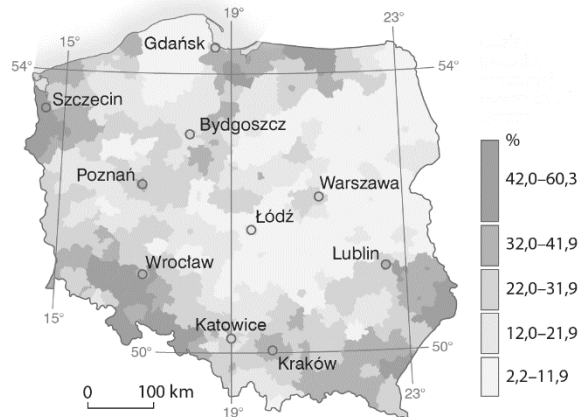
- A. Pojezierze Mazurskie, Pobrzeże Koszalińskie, Karpaty
- B. Nizina Mazowiecka, Nizina Podlaska, Nizina Wielkopolska
- C. Nizina Śląska, Kotlina Sandomierska, Wyżyna Miechowska
- D. Żuławy Wiślane, Wyżyna Kielecka, Wyżyna Lubelska

Liczba przyznanych punktów:

Zadanie 15. 0-2 pkt.

Na jednej z map zaznaczono rozmieszczenie upraw pszenicy, a na drugiej upraw ziemniaków. Wpisz pod każdą z map właściwą nazwę uprawy, jaka jest na niej zaprezentowana.

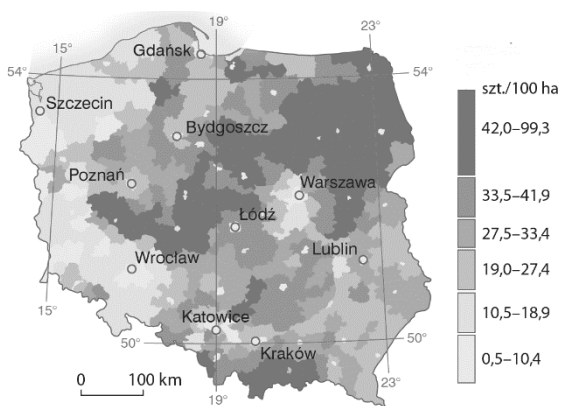


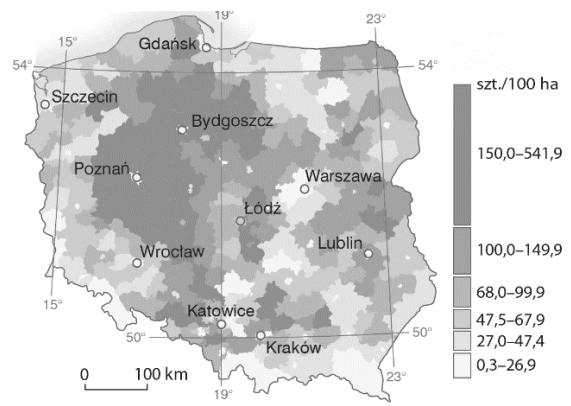


Liczba przyznanych punktów:

Zadanie 16. 0-2 pkt.

Na jednej z map zaznaczono rozmieszczenie chowu bydła, a na drugiej chowu trzody chlewnej. Wpisz pod każdą z map właściwą nazwę chowu, jaki jest na niej zaprezentowany.






Liczba przyznanych punktów:

Zadanie 17. 0-4 pkt.

Wpisz w kratki pod mapą **numery czterech** regionów, w których **bardzo dobrze** rozwinięte jest sadownictwo.

Uwaga: regiony nie mogą się powtarzać. W przypadku powtórzeń otrzymasz 0 pkt.



--	--	--	--

Liczba przyznanych punktów:

Zadanie 18. 0-1 pkt.

Jaki jest obecnie procentowy udział gruntów ornych (pod zasiewami i ugorowanych) w strukturze użytków rolnych w Polsce?

- A. ok. 67%
- B. ok. 74%
- C. ok. 55%
- D. ok. 60%

Liczba przyznanych punktów:

Zadanie 19. 0-14 pkt.

Oceń prawdziwość poniższych zdań. Zaznacz znakiem **X** ocenę P (prawda) jeśli uważasz, że zdanie jest prawdziwe, ocenę F (fałsz) jeśli uważasz, że zdanie jest fałszywe.

Zdanie	Ocena		
1. Wśród kontynentów od Europy mniejsza jest tylko Australia.	P	<input type="checkbox"/>	F
2. W Genewie znajduje się główny ośrodek Europejskiej Organizacji Badań Naukowych.	P	<input type="checkbox"/>	F
3. Z Danii do Szwecji można przejechać po moście nad cieśniną Sund.	P	<input type="checkbox"/>	F
4. W Polsce żyje mniej kobiet niż mężczyzn.	P	<input type="checkbox"/>	F
5. Średnia wysokość dopłat obszarowych do 1 ha wynosi w Polsce 200 EUR.	P	<input type="checkbox"/>	F
6. Najwięcej miast w Polsce liczy 5-10 tys. mieszkańców.	P	<input type="checkbox"/>	F
7. Największa powierzchnia użytków rolnych na 1 ciągnik rolniczy przypada w woj. małopolskim.	P	<input type="checkbox"/>	F
8. Najwięcej miast jest w woj. wielkopolskim, a najmniej w woj. świętokrzyskim.	P	<input type="checkbox"/>	F
9. Na Wyżnie Lubelskiej znajdują się plantacje chmielu i tytoniu.	P	<input type="checkbox"/>	F
10. W Beskidzie Makowskim zbudowano pierwsze w Polsce górskie obserwatorium astronomiczne.	P	<input type="checkbox"/>	F
11. Na Podlasiu znajduje się Europejska Wieś (Wioska) Bociania.	P	<input type="checkbox"/>	F
12. Aglomeracja warszawska jest policentryczna.	P	<input type="checkbox"/>	F
13. Polska jest jednym z największych producentów jabłek na świecie.	P	<input type="checkbox"/>	F
14. Obecnie mieszkańcy dużych miast wyprowadzają się na tereny wiejskie.	P	<input type="checkbox"/>	F

Liczba przyznanych punktów:

Brudnopis

Zapisy w brudnopisie nie są oceniane.