

KURATORIUM OŚWIATY
W KRAKOWIE

Małopolski Konkurs Historyczny

dla uczniów szkół podstawowych
województwa małopolskiego
w roku szkolnym 2020/2021

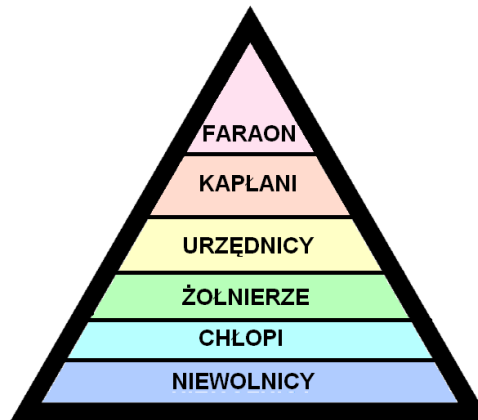
**„Od PRL-u do III Rzeczypospolitej.
Polska i Polacy w latach 1944-1989”**

Etap szkolny
16 listopada 2020 r.

Klucz odpowiedzi

Zadanie 1 (1 punkt)

Poniższy rysunek przedstawia strukturę społeczną (zaznacz poprawną odpowiedź)



- a) Starożytnej Mezopotamii
- b) Starożytnego Egiptu
- c) Starożytnych Indii

Zadanie 2 (4 punkty)

Uzupełnij tabelkę, przypisując nazwy starożytnych krain geograficznych poszczególnym pojęciom:

1. Monoteizm	d) Izrael
2. Polis	b) Grecja
3. Indus	c) Indie
4. Hammurabi	a) Mezopotamia

Zadanie 3 (4 punkty)

Do podanych poniżej osób dopisz daty wydarzeń, które miały miejsce w czasach życia poszczególnych postaci:

- 1. Justynian Wielki – **D. 529**
- 2. Mahomet – **C. 622**
- 3. Karol Wielki – **A. 800**
- 4. Otton I – **B. 962**

A. 800 B. 962 C. 622 D. 529 E. 732

Zadanie 4 (1 punkt)

Przedstawiona mapa ukazuje państwo polskie w czasach (zaznacz poprawną odpowiedź):

- a) Mieszka I
- b) **Bolesława Chrobrego**
- c) Bolesława Krzywoustego



Zadanie 5 (1 punkt)

Która z poniższych osób nie żyła w XVII wieku (zaznacz poprawną odpowiedź)

- a) Augustyn Kordecki
- b) Stefan Czarniecki
- c) Jan III Sobieski
- d) **Zygmunt II August**

Zadanie 6 (1punkt)

Wskaż chronologicznie pierwsze i ostatnie wydarzenie. Zapisz w tabeli cyfrę 1 obok wydarzenia chronologicznie pierwszego i cyfrę 4 obok wydarzenia chronologicznie ostatniego.

Obrona Głogowa przed najazdem cesarza niemieckiego	1
Budowa portu w Gdyni	4
Obiady czwartkowe	
Strajk dzieci we Wrześni	

Zadanie 7 (4 punkty)

Przyporządkuj poniższym osobom wydarzenia, w których brały udział:

1. Józef Chłopicki – **B**
 2. Romuald Traugutt – **D**
 3. Edward Dembowski – **C**
 4. Jan Kiliński – **A**
-
- A. Powstanie kościuszkowskie
 - B. Powstanie listopadowe
 - C. Powstanie krakowskie
 - D. Powstanie styczniowe

Zadanie 8 (1 punkt)

Jakie wydarzenie przedstawia poniższa mapa (zaznacz poprawną odpowiedź)?

- a) Powstanie listopadowe
- b) Powstanie styczniowe
- c) Powstanie w getcie warszawskim
- d) **Powstanie warszawskie**

Zadanie 9 (2 punkty)

W wyniku działań okupantów i zmian terytorialnych po II wojnie światowej ludność Polski zmniejszyła się o (zaznacz poprawną odpowiedź):

- a) 6 mln
- b) **10 mln**
- c) 15 mln

A jej obszar zmniejszył się o (zaznacz poprawną odpowiedź):

- a) **20%**
- b) 40%
- c) 60%

Zadanie 10 (4 punkty)

Uzupełnij poniższy tekst, wpisując brakujące informacje:

„W roku **1947** w ramach „Akcji (podaj nazwę) **Wisła**” władze Polski przesiedliły z terenów Bieszczad i Beskidu ludność ukraińską i **Lemków (Bojków/Dolinian)**. Byli oni oskarżani o wspieranie oddziałów UPA **Ukraińskiej Powstańczej Armii (Ukraińskiej Armii Powstańczej)**.”

Zadanie 11 (3 punkty)

Podaj pełne nazwy poniższych organów działających na ziemiach polskich:

- a) TRJN – Tymczasowy Rząd Jedności Narodowej
- b) PKWN – Polski Komitet Wyzwolenia Narodowego
- c) RJN – Rada Jedności Narodowej

Zadanie 12 (1 punkt)

Uporządkuj chronologicznie przedstawione wydarzenia:

- A. Upaństwowienie zakładów przemysłowych przez komunistów
- B. „Bitwa o handel”
- C. Dekret PKWN o reformie rolnej

1 – C, 2 – A, 3 – B

Zadanie 13 (4 punkty)

Podpisz imieniem i nazwiskiem osoby przedstawione na zdjęciach:

 <p>A – Stanisław Mikołajczyk</p>	 <p>B – Stefan Wyszyński</p>
 <p>C – August Emil Fieldorf “Nil” (Fieldorf “Nil”/ Emil Fieldorf)</p>	 <p>D – Jan Nowak Jeziorański (Zdzisław Antoni Jeziorański/ Jan Nowak/ Jan Zych)</p>

Zadanie 14 (1 punkt)

Od 2011 roku dzień 1 marca obchodzony jest w Polsce jako Narodowy Dzień Pamięci Żołnierzy Wyklętych. Ta data nawiązuje do (zaznacz poprawną odpowiedź):

- a) **Wykonania wyroków śmierci na dowództwie ostatniej Komendy Zrzeszenia Wolność i Niezawisłość**
- b) Zabicia przez Służbę Bezpieczeństwa ostatniego żołnierza podziemia sierżanta Józefa Franczaka (ps. Lalus)
- c) Powołania do życia organizacji Zrzeszenie Wolność i Niezawisłość

Zadanie 15 (1 punkt)

Przedstawiony plakat odnosi się do:

- A. Wyborów do sejmu
- B. **Referendum ludowego**
- C. Reform administracyjnych w kraju

Zadanie 16 (4 punkty)

Podanym wydarzeniom przyporządkuj odpowiednie daty:

- 1. Uchwalenie Konstytucji Polskiej Rzeczypospolitej Ludowej – 1952 - G
- 2. Referendum ludowe – 1946 - A
- 3. Powstanie Polskiej Zjednoczonej Partii Robotniczej – 1948 - C
- 4. „Cud nad urną” – 1947 - B

Zadanie 17 (1 punkty)

Przedstawiony poniżej list był przejawem sprzeciwu wobec polityki kulturalnej prowadzonej przez władze PRL, m. in. Ograniczania wolności słowa, a także swobód obywatelskich. Jaka nosi nazwę (zaznacz poprawną odpowiedź):

- A. List 24
- B. **List 34**
- C. List 44

Zadanie 18 (2 punkty)

Uzupełnij poniższy tekst, wpisując brakujące informacje:

„Podporządkowanie Polski ZSRS w kwestiach wojskowych odbywało się poprzez udział w strukturach (podaj pełną nazwę organizacji polityczno-wojskowej utworzonej w 1955 roku w skład której wchodziły państwa bloku wschodniego) **Układu Warszawskiego** (*Układ o Przyjaźni, Współpracy i Pomocy Wzajemnej*) a w kwestiach gospodarczych (podaj pełną nazwę organizacji utworzonej w Moskwie w 1949 w celu współpracy gospodarczej bloku państw podporządkowanych ZSRR) **Rady Wzajemnej Pomocy Gospodarczej**.”

Zadanie 19 (3 punkty)

Zaznacz, które z poniższych zdań są prawdziwe, a które fałszywe (podkreśl poprawną odpowiedź):

- a) Impulsem do wybuchu niezadowolenia społecznego w marcu 1968 roku był zakaz wystawiania „Dziadów” Adama Mickiewicza w Teatrze Starym w Krakowie (prawda/fałsz).
- b) Zwołany 8 marca 1968 roku wiec na dziedzińcu Uniwersytetu Warszawskiego został rozpućdzony przez oddziały ORMÓ (prawda/fałsz).
- c) Prowadzona przez władze komunistyczne w latach 1968-1969 kampania antysemicka zmusiła do emigracji z Polski ponad 13 tys. osób żydowskiego pochodzenia (prawda/fałsz).

Zadanie 20 (2 punkty)

Podaj: kiedy (rok) i gdzie (miasto) miały miejsce opisane niżej wydarzenia:

*„Chłopy z Grabówka, chłopcy z Chyloni,
Dzisiaj milicja użyła broni.
Dzielnieśmy stali, celnie rzucali.
Janek Wiśniewski padł!*

*Na drzwiach ponieśli go Świętojańską,
Naprzeciw glinom, naprzeciw tankom.
Chłopy stoczniowcy - pomścijcie druha!
Janek Wiśniewski padł!”*

Rok: **1970** Miasto: **Gdynia**

Zadanie 21 (1 punkt)

W wyniku reformy administracyjnej kraju w 1975 roku Polska została podzielona na (zaznacz poprawną odpowiedź):

Odpowiedź C – **49 województw**

Zadanie 22 (4 punkty)

W latach 70-tych XX wieku Polacy odnosili wiele sukcesów sportowych, a ich nazwiska na stałe zapisały się w historii sportu. Do podanych osób dopisz odpowiednią dyscyplinę sportu:

- a) Kazimierz Górski – **2**
- b) Ryszard Szurkowski – **6**
- c) Wojciech Fibak – **3**
- d) Irena Szewińska – **4**

1. Kajakarstwo 2. Piłka nożna 3. Tenis ziemny 4. Lekkoatletyka 5. Boks 6. Kolarstwo

Zadanie 23 (5 punktów)

Uzupełnij poniższy tekst:

„W czerwcu (podaj rok) **1976** władze państwowe zdecydowały się na podwyżkę cen żywności. Największe protesty przeciwko zapowiadanym zmianom odbyły się w trzech głównych ośrodkach: w podwarszawskim **Ursusie, Radomiu i Płocku**. Ostatecznie władze wycofały się z planowanych podwyżek, ale w sierpniu zostały wprowadzone kartki na **cukier**.

Zadanie 24 (4 punkty)

Do podanych organizacji dopasuj poniższe osoby, które je współtworzyły:

Komitet Obrony Robotników	Wolne Związki Zawodowe
1. Jacek Kuroń	3. Anna Walentynowicz
2. Jan Józef Lipski	4. Andrzej Gwiazda

Zadanie 25 (3 punkty)

Poniższy tekst przedstawia wybrane postulaty Międzyzakładowego Komitetu Strajkowego. Podaj, kiedy i gdzie zostały przedstawione oraz ile ich było?

- Akceptacja niezależnych od partii i pracodawców wolnych związków zawodowych, wynikająca z ratyfikowanej przez PRL Konwencji nr 87 Międzynarodowej Organizacji Pracy dotyczącej wolności związkowych.*
- Zagwarantowanie prawa do strajku oraz bezpieczeństwa strajkującym i osobom wspomagającym.*
- Przestrzegać zagwarantowaną w Konstytucji PRL wolność słowa, druku, publikacji, a tym samym nie represjonować niezależnych wydawnictw oraz udostępnić środki masowego przekazu dla przedstawicieli wszystkich wyznań.*
- Przywrócić do poprzednich praw:*
 - ludzi zwolnionych z pracy po strajkach w 1970 i 1976, studentów wydalonych z uczelni za przekonania,*
 - zwolnić wszystkich więźniów politycznych (w tym Edmunda Zdrożyńskiego, Jana Kozłowskiego, Marka Kozłowskiego),*
 - znieść represje za przekonania.*
- Podać w środkach masowego przekazu informację o utworzeniu Międzyzakładowego Komitetu Strajkowego oraz publikować jego żądania.*

Kiedy (rok) – **1980**, gdzie (miasto) – **Gdańsk**, liczba wszystkich postulatów – **21**

Zadanie 26 (1 punkt)




Uporządkuj chronologicznie przedstawione wydarzenia:

- A. Zamordowanie ks. Jerzego Popiełuszki
- B. Wprowadzenie stanu wojennego
- C. Przyznanie pokojowej nagrody Nobla Lechowi Wałęsie
- D. Powstanie NSZZ „Solidarność”

1 – D, 2 – B, 3 – C, 4 – A

Zadanie 27 (3 punkty)

Przyporządkuj nazwę miasta do zamieszczonego zdjęcia.

		
A. Poznań – 1	B. Gdańsk – 3	C. Katowice – 5

Zadanie 28 (3 punkty)

Do podanych pojęć dopasuj odpowiadające im osoby:


- a) „Propaganda sukcesu” – 2
- b) „Mała stabilizacja” – 1
- c) Koniec „Karnawału Solidarności” – 3

- 1. Władysław Gomułka
- 2. Edward Gierek

- 3. Wojciech Jaruzelski
- 4. Bolesław Bierut

Zadanie 29 (1 punkt)

Poniższy plakat powstał w związku z (zaznacz poprawną odpowiedź):



- a) Powstaniem NSZZ „Solidarność”
- b) Reaktywowaniem NSZZ „Solidarność”
- c) **Wyborami parlamentarnymi**
- d) I zjazdem NSZZ „Solidarność”

Zadanie 30 (4 punkty)

Do podanych wydarzeń z roku 1989 dopisz miesiące, w których te wydarzenia miały miejsce:

- a) Zmiana nazwy państwa polskiego na Rzeczpospolita Polska – **4**
- b) Utworzenie rządu Tadeusza Mazowieckiego – **3**
- c) Koniec obrad „Okrągłego stołu” – **1**
- d) Wolne wybory do Senatu – **2**

1. Kwiecień 2. Czerwiec 3. Wrzesień 4. Grudzień

Zadanie 31 (1 punkt)

Zaznacz, która z poniższych osób nie otrzymała Nagrody Nobla:

- a) Wisława Szymborska
- b) Czesław Miłosz
- c) Lech Wałęsa
- d) **Mirosław Hermaszewski**

Zadanie 32 (5 punktów)

Do zamieszczonych pojęć dopasuj odpowiadające im opisy:

- a) Repatriant – **5**
- b) Pewex – **2**
- c) Bibuła – **1**
- d) Plenum – **4**
- e) Syjonista – **3**