

Małopolski Konkurs Tematyczny:

*„Polscy żołnierze w walce o wyzwolenie Włoch, Francji, Belgii i Holandii
podczas II wojny światowej” dla uczniów szkół podstawowych
Województwa Małopolskiego w roku szkolnym 2022/2023*

Etap szkolny

8 listopada 2022 r.

Organizatorzy:


Oddział Instytutu Pamięci Narodowej w Krakowie we współpracy z:

Marszałkiem Województwa Małopolskiego

i Fundacją Centrum Dokumentacji Czynu Niepodległościowego

oraz

Małopolski Kurator Oświaty



Dane ucznia – proszę wpisać lub przypiąć tzw. metryczkę po rozkodowaniu pracy:

Imię i nazwisko

Nazwa szkoły

Imię i nazwisko opiekuna naukowego

Instrukcja dla ucznia:

1. Przed Tobą zestaw 17 zadań konkursowych, za rozwiązanie których możesz uzyskać maksymalnie 36 punktów.
2. Sprawdź, czy zestaw konkursowy zawiera 8 stron. Ewentualny brak zgłoś komisji.
3. Na rozwiązanie zestawu masz 60 minut. Komisja konkursowa 15 minut przed końcem przypomni Ci o upływającym czasie.
4. Pracuj uważnie, używając jedynie pióra lub długopisu koloru czarnego lub niebieskiego. Odpowiedzi udzielane przy użyciu ołówka nie będą oceniane.
5. Nie podpisuj kartek imieniem ani nazwiskiem.
6. Pamiętaj, aby nie używać korektora.
7. Rozwiązania zadań wypełniaj czytelnie w wyznaczonych miejscach na pracy.
8. Staraj się nie popełniać błędów. Błędnie zaznaczoną odpowiedź przekreśl i zaznacz właściwą odpowiedź. Możesz się poprawić tylko jeden raz.
9. Stwierdzenie niesamodzielności pracy lub przeszkadzanie innym, spowoduje wykluczenie Cię z udziału w konkursie.

Życzymy Ci powodzenia!

Autorzy zadań i Organizatorzy Konkursu

Zadanie 1. (0-3 pkt.)

Dopasuj osoby do pełnionych przez nie funkcji państwowych lub wojskowych na uchodźstwie: Władysław Sikorski, Stanisław Mikołajczyk, Władysław Raczkiewicz.

- a) Prezydent RP w latach 1939-1947:
- b) Premier rządu RP w latach 1943-1944:
- c) Naczelný Wódz Polskich Sił Zbrojnych w latach 1939-1943:

Zadanie 2. (0-1 pkt)

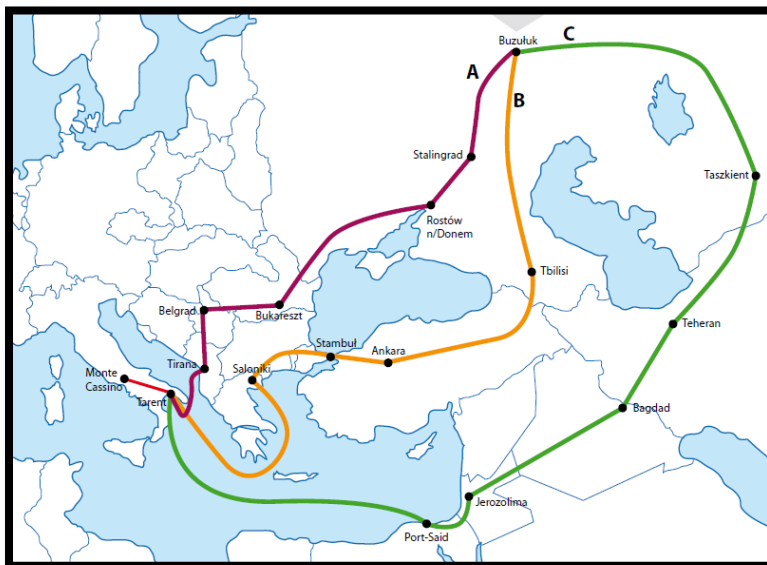
Zaznacz wydarzenie, które zostało utrwalone na zamieszczonej fotografii:



- a) podpisanie paktu Ribbentrop – Mołotow
- b) obrady konferencji w Teheranie
- c) podpisanie układu Sikorski – Majski
- d) zawarcie umowy z Wielką Brytanią o utworzeniu Polskich Sił Zbrojnych

Zadanie 3. (0-1 pkt)

Na mapie zamieszczonej poniżej naniesiono trzy trasy. Zaznacz właściwy szlak, którym przeszła część żołnierzy Armii Polskiej powstałej na terenie ZSRS po podpisaniu układu Sikorski-Majski.



- a) A
- b) B
- c) C

Zadanie 4. (0-1 pkt)

Jako pretekst do zerwania w kwietniu 1943 r. stosunków dyplomatycznych z rządem RP Stalin wykorzystał:

- a) podkreślanie przez rząd RP niezbywalnych praw Polski do Wilna i Lwowa
- b) wyprowadzenie Armii Polskiej z terytorium Związku Sowieckiego
- c) sprawę zbrodni katyńskiej
- d) spór o obywatelstwo osób zamieszkałych na wcielonych do Związku Sowieckiego ziemiach wschodnich RP

Zadanie 5. (0-1 pkt)

Poniższa ilustracja przedstawia odznakę pamiątkową:



- a) Samodzielnej Brygady Strzelców Karpackich
- b) II Korpusu Polskiego
- c) 1 Samodzielnej Brygady Spadochronowej
- d) Cichociemnych

Zadanie 6. (0-2 pkt)

Wśród wymienionych wydarzeń wskaż to, które chronologicznie jest pierwsze, i to, które jest ostatnie. W tabelce obok wydarzenia pierwszego wpisz literę A, obok ostatniego – literę B.

ewakuacja Armii Polskiej z ZSRS do Iranu	
podpisanie układu Sikorski-Majski	
wyzwolenie przez żołnierzy polskich Bolonii	
udział Wojska Polskiego w bitwie o Monte Cassino	

Zadanie 7. (0-1 pkt)

4 lipca 1943 r. przyszła informacja o śmierci gen. Władysława Sikorskiego. W jakich okolicznościach zmarł:

- a) został zamęczony w sowieckim więzieniu na Łubiance
- b) zginął w katastrofie lotniczej
- c) poległ podczas bitwy pod Monte Cassino
- d) został rozstrzelany w Katyniu

Zadanie 8. (0-1 pkt)

Poniższy plakat z 1944 r. z hasłem „za waszą i naszą wolność [„for your freedom and ours”] mówi o zwycięskiej bitwie polskich żołnierzy służących w:

- a) 1 Dywizji Pancерnej
- b) I Korpusie Polskim
- c) II Korpusie Polskim
- d) Samodzielnej Brygadzie Strzelców Podhalańskich



Zadanie 9. (0-4 pkt.)

Dopasuj nazwiska do osób przedstawionych na zdjęciach:

Władysław Anders, Stanisław Maczek, Władysław Sikorski, Kazimierz Sosnkowski.



Zdjęcie nr 1



Zdjęcie nr 2



Zdjęcie nr 3



Zdjęcie nr 4

Zdjęcie nr 1 -

Zdjęcie nr 2 -

Zdjęcie nr 3 -

Zdjęcie nr 4 -

Zadanie 10. (0-3 pkt)

Do podanych formacji polskich dopasuj ich dowódców spośród podanych poniżej nazwisk: Władysław Anders, Stanisław Maczek, Stanisław Sosabowski.

- a) II Korpus Polski - gen.
- b) 1 Samodzielna Brygada Spadochronowa - gen.
- c) 1 Dywizja Pancerna - gen.

Zadanie 11. (0–4 pkt.)

Przeczytaj uważnie przytoczone niżej fragmenty tekstów dotyczące udziału Polaków w różnych bitwach podczas II wojny światowej. Rozpoznaj miejsca tych bitew, dopisując właściwe nazwy spośród podanych: Falaise, Monte Cassino, Arnhem, Wilhelmshaven.

a) „(...) Rozpoczęło się...

- Naprzód! - wola ppor. Skwara. Ale gdzie naprzód, kiedy już dobili do szczytu 593 i stoją nad skrajem urwiska. Zdążyli: Niemcy nie dali rady obsadzić z powrotem bojowych schronów na 593 i tylko wzięto do niewoli dziesięciu obserwatorów. Za to z dołu urwiska lecą granaty, dalej równina Albanety, która poczyną strzelać.(...)”

Jest to bitwa pod:

b) Naszą „Dakotę” coraz bardziej rzuca, ale nie mogę oderwać oczu od tego straszego widoku. Dwa sąsiednie samoloty spadają w dół, dymiąc i płonąc. Przed nami jedna ogromna ściana z ognia i stali, w którą prosto lecimy. Poznają nasze zrzutowisko (...). Na skraju lasu stoją setki żołnierzy. Ale to nie Brytyjczycy, którzy mieli ubezpieczać nasze zrzutowisko. To Niemcy, którzy strzelają do naszych samolotów oraz do naszych prawie bezbronnych w powietrzu żołnierzy, opadających wolno na swych spadochronach.

Jest to bitwa pod:

c) Czolgi strzelają jako artyleria, wysoko i szczekliwie wtórują im polówki, terkoczą karabiny maszynowe i zwykłe, i przeciwlotnicze, bo na niebie huczą niemieckie samoloty (...). Ku tej samej miejscowości co my przebijają się też wojska amerykańskie, dążąc do połączenia się z nami i zamknięcia w ten sposób drogę ucieczki wojskom niemieckim, okupującym południową i zachodnią część Francji.

Jest to bitwa pod:

d) Pancerniacy zajmują koszary marynarki i ustawiają się na ich podwórzu. Niemiecką wartę, która dotychczas tkwiła przy bramie wjazdowej, zamienia warta polska, a na przywjazdowy maszt – w asyście przybyłych (...) generała Maczka i jego zastępcy generała Klemensa Rudnickiego – odbywa się wciągnięcie flagi polskiej.

Jest to zdobycie:

Zadanie 12. (0-1 pkt)

Jakie intencje związane ze stworzeniem 1 Samodzielnej Brygady Spadochronowej wyraża poniższy rysunek.



- a) dążenie do wyzwolenia Holandii
- b) dążenie do wyzwolenia Polski

Zadanie 13. (0-1 pkt)

1 Dywizja Pancerna walczyła pod:

- a) Falaise
- b) Tobrukiem
- c) Narwikiem
- d) Ankoną

Zadanie 14. (0-1 pkt)

Maszyna szyfrująca używana przez Niemców, której kod rozszyfrowali polscy matematycy to:

- a) Atlanta
- b) Berta
- c) Enigma
- d) V 1

Zadanie 15. (0-6 pkt.)

Rozstrzygnij, czy podane zdania są prawdziwe lub fałszywe; wpisz odpowiednio: *prawda* lub *falsz*.

Po klęsce Francji w 1940 r. Wojsko Polskie zostało odtworzone w Wielkiej Brytanii.	
W 1939 r. została zawarta umowa polsko-sowiecka o utworzeniu na terytorium ZSRS polskich jednostek wojskowych podległych władzom RP.	
Polskie okręty uczestniczyły w działaniach związanych z organizacją i zabezpieczeniem lądowania aliantów w Normandii w 1944 r.	
Polscy żołnierze wyzwolali w 1944 r. między innymi belgijskie miasta Ypres i Gandawę oraz holenderską Brekę.	
W maju 1945 r. żołnierze polskiej 1 Dywizji Pancerniej zdobyli niemiecki port Wilhelmshaven.	
Generał Władysław Anders został pochowany na Polskim Cmentarzu Wojennym w Falaise.	

Zadanie 16. (0-4 pkt.)

Dopasuj poniższe znaki do odpowiednich nazw, wpisując literę przy właściwej nazwie:




A



B



C



D

Znak polskiego lotnictwa wojskowego

Znak Dywizjonu 303

Odznaka 1 Dywizji Pancerniej

Naszywka na mundurach żołnierzy Polskich Sił Zbrojnych na Zachodzie

Zadanie 17. (0-1 pkt)

Przeczytaj fragment wspomnień gen. Władysława Andersa o dniu kapitulacji Niemiec i odpowiedz na pytanie.

Gdy wymiana not i depesz w sprawie aresztowanych przez Rosję sowiecką przedstawicieli ruchu walki i oporu przeciwko Niemcom w Polsce [tzn. szesnastu przywódców Polskiego Państwa Podziemnego] nabierała ostrości i ponurym cieniem przesłaniała widoki pokoju po wojnie, nadeszła wiadomość, że działania wojenne w Europie zostały zakończone bezwzględną kapitulacją Niemiec, podpisaną w Reims 7maja o 2:41, a później w Berlinie 8 maja o 0:16. Był to wielki dzień w historii świata i wielka ulga dla milionów ludzi. My Polacy, niestety, nie mogliśmy brać udziału w powszechnym entuzjazmie tej chwili. Nawet gorycz samotnej walki we wrześniu 1939 w Polsce w początku tej zawieruchy była nikła wobec naszego osamotnienia w niedoli wśród zwycięskiej radości sprzymierzonych. Zwycięstwo, do którego przyczyniliśmy się tak wielką ilością przelanej krwi i tyloletnią męką narodu polskiego, nie było naszym udziałem. Polski V-Day jeszcze nie nadszedł.

Wpisz nazwę państwa, które uniemożliwiło odbudowę niepodległej Polski po zakończeniu II wojny światowej:

Dziękujemy za przystąpienie do Konkursu

Autorzy zadań i Organizatorzy Konkursu