



Kod ucznia .....

## **Małopolski Konkurs Historyczny**

dla uczniów szkół podstawowych  
województwa małopolskiego  
w roku szkolnym 2018/2019

„Na drogach do Niepodległej. Historia Polski  
od powstania styczniowego do pokoju ryskiego”

28 listopada 2018 roku

**Etap rejonowy**

| Numer zadania | Maksymalna liczba punktów możliwa do uzyskania w poszczególnych zadaniach | Liczba punktów uzyskanych przez uczestnika w poszczególnych zadaniach |
|---------------|---|---|
| 1.            | 4   |   |
| 2.            | 4   |   |
| 3.            | 2   |   |
| 4.            | 1   |   |
| 5.            | 4   |   |
| 6.            | 1   |   |
| 7.            | 1   |   |
| 8.            | 2   |   |
| 9.            | 5   |   |
| 10.           | 5   |   |
| 11.           | 1   |   |
| 12.           | 2   |   |
| 13.           | 1   |   |
| 14.           | 3   |   |
| 15.           | 3   |   |
| 16.           | 2   |   |
| 17.           | 5   |   |
| 18.           | 3   |   |
| 19.           | 4   |   |
| 20.           | 3   |   |
| 21.           | 6   |   |
| 22.           | 1   |   |
| 23.           | 1   |   |
| 24.           | 3   |   |
| 25.           | 4   |   |
| 26.           | 1   |   |
| 27.           | 3   |   |
| 28.           | 1   |   |
| 29.           | 6   |   |
| 30.           | 2   |   |
| 31.           | 5   |   |
| 32.           | 2   |   |
| 33.           | 5   |   |
| 34.           | 1   |   |
| 35.           | 3   |   |
| Suma punktów  | Możliwych punktów do uzyskania: <b>100</b>                                | Uzyskanych punktów:   |

## Przed rozpoczęciem pracy przeczytaj poniższą instrukcję

1. Sprawdź, czy arkusz konkursowy zawiera **23 strony**. Ewentualny brak zgłoś przewodniczącemu zespołu nadzorującego.
2. Zakoduj swoją pracę. Nie podpisuj kartek imieniem i nazwiskiem.
3. Przed Tobą zestaw **35 zadań konkursowych**.
4. Za poprawne rozwiązanie wszystkich zadań możesz uzyskać **100 punktów**.
5. Przy każdym zadaniu podana jest maksymalna ilość punktów, którą można uzyskać.
6. Na rozwiązanie zestawu masz **90 minut**. Komisja konkursowa 15 minut przed końcem przypomni Ci o upływającym czasie.
7. Czytaj uważnie wszystkie polecenia.
8. Odpowiedzi należy wpisywać tylko długopisem lub piórem z atramentem koloru czarnego lub niebieskiego. Odpowiedzi zapisane ołówkiem nie będą oceniane.
9. Pisz czytelnie – odpowiedzi nieczytelne nie będą oceniane!
10. Zapisuj słowa w pełnym brzmieniu – nie stosuj skrótów. Błędny zapis nazwisk, nazw, pojęć, terminów, dat powoduje nieprzyznanie punktów.
11. Błędne zapisy wyraźnie przekreśl. Przy błędnych zaznaczeniach w pytaniach testowych należy pisać: dobrze, źle.
12. Nie wolno używać korektora – zadanie, w którym użyto korektora nie będzie oceniane.
13. Brudnopis nie podlega ocenie.
14. Wyłącz telefon komórkowy, jeśli go posiadasz.
15. Stwierdzenie niesamodzielnosci pracy lub przeszkadzanie innym, spowoduje wykluczenie Cię z udziału w konkursie.

Życzymy Ci powodzenia!

Organizatorzy Konkursu

**Zadanie 1 (4 punkty)**

Podaj lokalizacje poniższych budowli wzniesionych przez starożytne cywilizacje:



1. ....



2. ....



3. ....



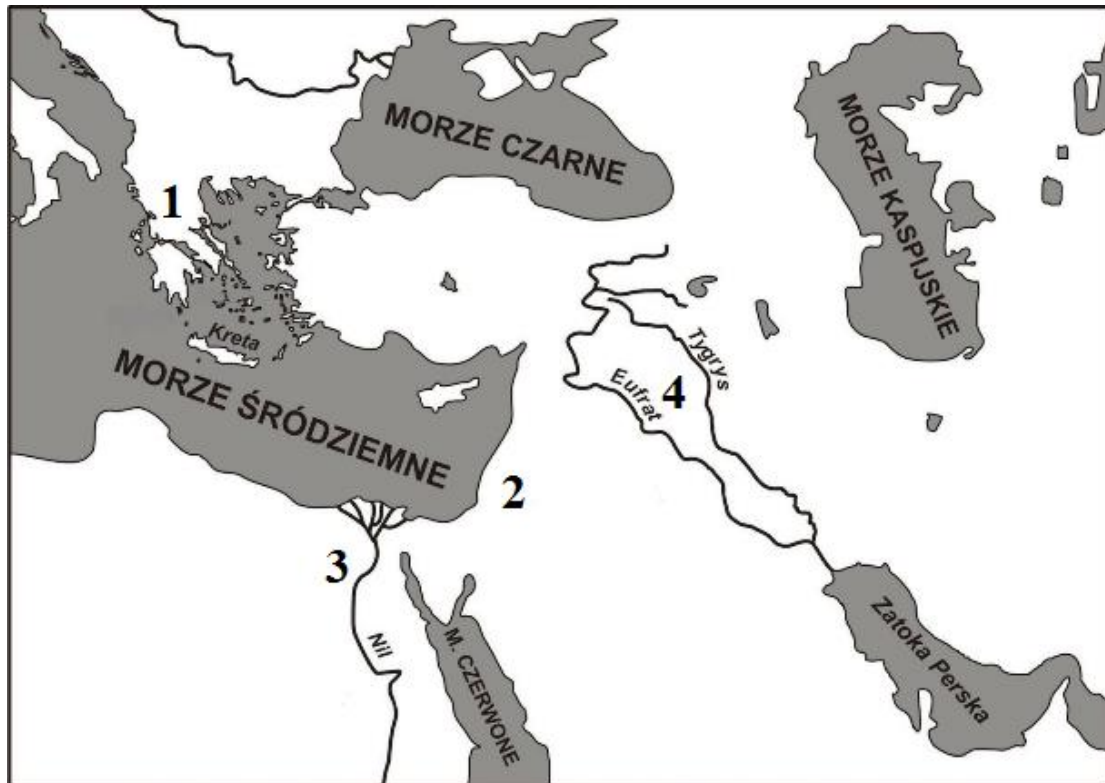
4. ....

- a. Egipt
- b. Grecja
- c. Mezopotamia
- d. Rzym
- e. Chiny

1..... 2..... 3..... 4.....

**Zadanie 2 (4 punkty)**

Korzystając z poniższej mapy odpowiedz na pytania wpisując właściwą cyfrę:



(Baza narzędzi dydaktycznych, Instytut Badań Edukacyjnych)

- a. Gdzie funkcjonowała monarchia despotyczna? .....
- b. Gdzie nauczał Jezus Chrystus? .....
- c. Gdzie powstał Kodeks Hammurabiego? .....
- d. Gdzie tworzył Homer? .....

**Zadanie 3 (2 punkty)**

Wpisz odpowiednią datę wydarzenia:

Cesarstwo Zachodniorzymskie upadło w roku .....  
a Wschodniorzymskie w roku.....

**Zadanie 4 (1 punkt)**

Nie był królem (zaznacz poprawną odpowiedź):

- a. Bolesław Chrobry
- b. Mieszko II
- c. Bolesław Śmiały
- d. Bolesław Krzywousty

### Zadanie 5 (4 punkty)

Dopasuj wydarzenie do postaci:

- a. wydanie Przywileju Koszyckiego - .....
- b. II pokój toruński - .....
- c. Wielka wojna z Krzyżakami - .....
- d. Utrata Pomorza Gdańskiego - .....

- 1. Kazimierz Jagiellończyk      2. Władysław Jagiełło      3. Władysław Łokietek
- 4. Ludwik Węgierski            5. Władysław Warneńczyk

### Zadanie 6 (1 punkt)

Zaznacz osobę, która nie pasuje do poniższej listy:

- a. Vasco da Gama
- b. Bartolomeu Diaz
- c. Rafael Santi
- d. Ferdynand Magellan

### Zadanie 7 (1 punkt)

Przeczytaj poniższy tekst i wskaż poprawną odpowiedź:

*W imię Pańskie. Amen. Ku wiecznej pamięci sprawy niżej opisanej. Iż już Królestwo Polskie i Wielkie Księstwo Litewskie jest jedno nierozdzielne i nieróżne ciało, a także nieróżna ale jedna spólna Rzeczpospolita, która się z dwu państw i narodów w jeden lud zniosła i spoiła. A przy koronacji nowego króla mają być przez króla koronowanego poprzysiężone i zaraz konfirmowane [zatwierdzone] na jednym liście i jednymi słowy na wieczne czasy prawa, przywileje i wolności poddanych wszystkich obojga narodów i państw tak złączonych. Sejmy i rady ten oboj naród ma zawsze mieć spólne koronne pod królem polskim, panem swym, i zasiadać tak panowie [litewscy] między pany [koronnymi] osobami swemi, jako posłowie [litewscy] między posły [koronnymi] i radzić o spólnych potrzebach tak na sejmie, jako i bez sejmu, w Polsce i w Litwie.*



(<http://www.pthlodz.uni.lodz.pl/dydaktyka/zrodla/zrodlo23.pdf>, dostęp 20.11.2018)

Tekst dotyczy:

- a. Unii w Krewie
- b. Unii w Horodle
- c. Unii w Lublinie

**Zadanie 8 (2 punkty)**

Podpisz twórców poniższych dzieł:

|  |   |
|--|---|
|  <p>1. ....</p> |  <p>2. ....</p> |
|--|---|

**Zadanie 9 (5 punkty)**

Zaznacz, które z poniższych zdań są prawdziwe, a które fałszywe:

- a. Galileusz na podstawie swoich badań odrzucił teorię Mikołaja Kopernika (Prawda/Falsz)
- b. Twórcą zasady trójpodziału władzy był Karol Monteskiusz (Prawda/Falsz)
- c. Henryk VII stając na czele kościoła anglikańskiego dokonał kasaty zakonów (Prawda/Falsz)
- d. Biblia Gutenberga to jedno z pierwszych drukowanych dzieł na świecie (Prawda/Falsz)
- e. Jean Jacques Rousseau jest twórcą dzieła „Pochwała głupoty” (Prawda/Falsz)

**Zadanie 10 (5 punktów)**

Podaj co zawdzięczamy poniższym osobom? (uzupełnij tabelę)

| Wynalazca         | Wynalazek/ Konstrukcja |
|-------------------|------------------------|
| James Watt        |                        |
| George Stephenson |                        |
| Karl Benz         |                        |

|               |  |
|---------------|--|
| Thomas Edison |  |
| Robert Fulton |  |

**Zadanie 11 (1 punkt)**

Uporządkuj chronologicznie wydarzenia:

- a. Noc Listopadowa
- b. ogłoszenie Uniwersału Połanieckiego
- c. Powstanie Księstwa Warszawskiego
- d. Rabacja Chłopska

1.....2.....3.....4.....

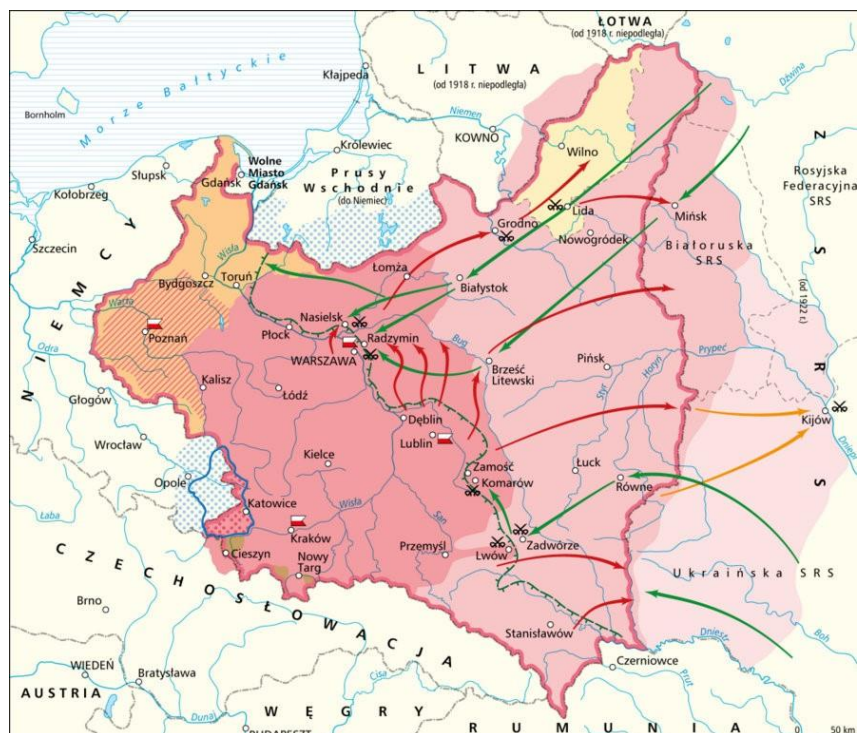
**Zadanie 12 (2 punkty)**

Napisz jakie wydarzenie przedstawiają poniższe mapy:



1. ....  
<http://wlpzpolске.pl/index.php?etap=10&i=1242&nomenu=1>, dostęp 19.11.2018)





2. ....  
 (<http://włączpolske.pl/index.php?etap=10&i=1242&nomenu=1>, dostęp 19.11.2018)

**Zadanie 13 (1 punkt)**

Dyktatorem powstania styczniowego nie był (zaznacz poprawną odpowiedź)

- a. Ludwik Mierosławski
- b. Marian Langiewicz
- c. Aleksander Wielopolski
- d. Romuald Traugutt

**Zadanie 14 (3 punkty)**

Po klęsce powstania styczniowego ziemie polskie dotknęła fala represji. Zaznacz te, które objęły jedynie zabór rosyjski:

- a. likwidacja Rady Stanu i Rady Administracyjnej
- b. „Noc Apuchtinowska”
- c. prześladowanie Kościoła Katolickiego wyrażone aresztowaniem arcybiskupa Mieczysława Ledóchowskiego
- d. reforma administracyjna zwiększająca liczbę guberni

### Zadanie 15 (3 punkty)

Przyporządkuj poniższym osobom działania

1. Dezydery Chłapowski
  2. Aleksander Świętochowski
  3. Franciszek Stefczyk
- 
- a. Założyciel kas kredytowo-oszczędnościowych
  - b. Jeden z twórców pozytywizmu warszawskiego
  - c. Prekursor pracy organicznej w zaborze pruskim

|    |    |    |
|----|----|----|
| 1. | 2. | 3. |
|----|----|----|

### Zadanie 16 (2 punkty)

Wskaż pierwsze (1) i ostatnie (4) wydarzenie opisujące rewolucje lat 1905-1907:

|                         |  |
|-------------------------|--|
| Powstanie łódzkie       |  |
| Reakcja stołypinowska   |  |
| „Krwawa niedziela”      |  |
| Manifest październikowy |  |

### Zadanie 17 (5 punkty)

Spośród podanych pod tabelką nazwisk wybierz autorów podanych w niej utworów:

| Autor | Utwór                             |
|-------|-----------------------------------|
|       | Quo vadis                         |
|       | O krasnoludkach i sierotce Marysi |
|       | Nad Niemnem                       |
|       | Stara baśń                        |
|       | Ziemia obiecana                   |

Józef Ignacy Kraszewski, Henryk Sienkiewicz, Eliza Orzeszkowa, Maria Konopnicka, Oskar Kolberg, Stefan Żeromski, Władysław Reymont

### Zadanie 18 (3 punkty)

W poniższym tekście wskaż osoby, które znalazły się tam prawidłowo:

*„W drugiej połowie XIX wieku toczono spór dotyczący przyczyn upadku Rzeczypospolitej w XVIII wieku. Krakowską szkołę historyczną, która wpłynęła na ideowe oblicze Stańczyków tworzyli:*

1. Michał Bobrzyński
2. Walerian Kalinka
3. Tadeusz Korzon
4. Józef Szujski

### Zadanie 19 (4 punkty)

Podaj z jakimi wymienionymi poniżej ugrupowaniami politycznymi związane były tworzone przed I wojną światową polskie organizacje paramilitarne (nazwy jednego ugrupowania musisz użyć dwa razy):

- a. Związek Strzelecki - .....
- b. Towarzystwo „Strzelec” - .....
- c. Polskie Drużyny Strzeleckie – .....
- d. Drużyny Bartoszwowe - .....

Polska Partia Socjalistyczna, ruch ludowy, Narodowa Demokracja,

### Zadanie 20 (3 punkty)

Spośród podanych niżej państw wpisz do tabelki te u boku których walczyły, podczas I wojny światowej, polskie formacje wojskowe:

|                             |  |
|-----------------------------|--|
| Legion Puławskiego          |  |
| I Korpus Polski             |  |
| I Brygada Legionów Polskich |  |

Austro-Węgry, Niemcy, Rosja, Francja, Wielka Brytania

### Zadanie 21 (6 punktów)

Uzupełnij poniższy tekst:

Na mocy traktatu wersalskiego kończącego I wojnę światową:

- a. Do Francji powróciły ..... i .....
- b. Polska odzyskała ..... i .....
- c. .... i ..... zostały przekształcone w Wolne Miasta

### Zadanie 22 (1 punkt)

Zaznacz, które z opisanych wydarzeń XX wieku nie pasuje do pozostałych:

- A. Obrona przez Orłęta Lwowskie cmentarza na Łyczakowie
- B. Bitwa Warszawska
- C. Wyprawa kijowska
- D. Traktat ryski
- E. Bitwa nad Bzurą

### Zadanie 23 (1 punkt)

Uzupełnij zdanie podając imię i nazwisko:

W 1927 roku Mazurek Dąbrowskiego stał się oficjalnie hymnem narodowym. Autorem słów był .....

### Zadanie 24 (3 punkty)

Po przeczytaniu poniższego tekstu odpowiedz na zamieszone pod nim pytania:

*„Jako Wódz Naczelny Armii Polskiej, pragnę notyfikować rządowi i narodowi wojującym i neutralnym istnienie Państwa Polskiego Niepodległego, obejmującego wszystkie ziemie zjednoczonej Polski.*

*Sytuacja polityczna w Polsce i jarzmo okupacji nie pozwoliły dotychczas narodowi polskiemu wypowiedzieć się swobodnie o swym losie. Dzięki zmianom, które nastąpiły wskutek świetnych zwycięstw armii sprzymierzonych - wznowienie niepodległości i suwerenności Polski staje się odtąd faktem dokonanym.*

*Państwo Polskie powstaje z woli całego narodu i opiera się na podstawach demokratycznych. Rząd Polski zastąpi panowanie przemocy, która przez sto czterdzieści lat ciążyła nad losami Polski - przez ustrój, zbudowany na porządku i sprawiedliwości.*

*Opierając się na Armii Polskiej pod moją komendą, mam nadzieję, że odtąd żadna armia obca nie wkroczy do Polski, nim nie wyrazimy w tej sprawie formalnej woli naszej. Jestem*

*przekonany, że potężne demokracje Zachodu udzielą swej pomocy i braterskiego poparcia Polskiej Rzeczypospolitej Odrodzonej i Niepodległej.”*

1. Kto jest autorem powyższego tekstu?

.....

2. Do kogo autor kieruje cytowane słowa?

.....

3. Co jest celem publikacji oświadczenia?

.....


**Zadanie 25 (4 punkty)**

Podaj, które z zamieszczonych zdań są prawdziwe. Wpisz w tabelę PRAWDA lub FAŁSZ:

|   |  |
|---|--|
| 14 listopada 1918 roku w Poznaniu powstaje Naczelna Rada Ludowa   |  |
| Dowódcą Armii Wielkopolskiej zostaje gen. Józef Haller  |  |
| Uchwałę o zjednoczeniu ziem zaboru pruskiego z Polską podjął Polski Sejm Dzielnicowy.   |  |
| W traktacie wersalskim ustalono, że większość ziem Wielkopolski i Pomorza Gdańskiego wraz z Gdańskiem zostaną zwrócone Polsce |  |

**Zadanie 26 (1 punkt)**

Zaznacz poprawną odpowiedź:



Powyższe zdjęcie zrobiono podczas:

- a. podpisywania rozejmu pomiędzy państwami Ententy a Cesarstwem Niemieckim kończący I wojnę światową

- b. podpisywania traktatu ryskiego
- c. konferencji pokojowej w Wersalu

**Zadanie 27 (3 punkty)**

Na podstawie poniższego tekstu i wiedzy pozaźródłowej odpowiedz na pytania:

*Wyjmuję gwizdek służbowy i wydaję jeden, długi, przeraźliwy gwizd. Na ten sygnał wypada ppor. Śnigowski z ludźmi, ukrytymi za barakiem i błyskawicznie wprost otacza zbrojnym kordonem przerażoną gromadę niemiecką. Nie na darmo uczono żołnierzy tej sztuki w celach asystencyjnych. Zastraszeni Niemcy widząc skierowane ku sobie bagnety, zbijają się w gromadę. Mówię do nich po niemiecku: To co chciałem wam powiedzieć, powiem wam teraz. Stara Austria wali się w gruzy, a na podstawie zasad prezydenta Wilsona powstają na jej miejscu państwa narodowe. Rewolucja w całym państwie. Polacy w Galicji, nie mogąc się doczekać dobrowolnego opuszczenia ich ziemi przez zaborców, zmuszeni są użyć w tym celu siły. Oznajmiam wam, iż jesteście rozbrojeni. Wasi dawniejsi dowódcy przestali być dzisiaj nimi, a ja z rozkazu Rządu Polskiego obejmuję tu władzę, tj. tu w koszarach na Podgórzu i okolicy.*

- a. Podaj datę (dzień, miesiąc, rok) i miasto opisanego wydarzenia:  
.....
- b. Podaj kto dowodził opisanym atakiem?  
.....

**Zadanie 28 (1 punkt)**


Zaznacz poprawną odpowiedź:

Skutkiem przegranej plebiscytu na Śląsku była decyzja o wybuchu:

- a. I powstania śląskiego
- b. II powstania śląskiego
- c. III powstania śląskiego

**Zadanie 29 (6 punktów)**


Do przedstawionych poniżej fotografii postaci dopasuj zamieszczone pod nimi opisy:



1. ....



2. ....



3. ....



4. ....



5. ....



6. ....

- A. Od najwcześniejszych lat przejawiał wielkie zainteresowanie sprawami chłopów w ówczesnej Galicji. Obrana droga polityki przyniosła mu m.in. prędkie wejście do władz stronnictwa, w 1908 roku – mandat posła do Sejmu Krajowego we Lwowie, a w 1911 r. posła do Rady Państwa w Wiedniu. Kierowane przez niego stronnictwo nie zrezygnowało podczas I wojny światowej z postulatu odbudowy państwa polskiego, czemu sam dał temu szczególny wyraz w specjalnej deklaracji wygłoszonej w maju 1917 roku na posiedzeniu Sejmu Krajowego we Lwowie.
- B. Urodził się w Zułowie na Wileńszczyźnie w zubożałej rodzinie szlacheckiej. Zamieszany w plan zamordowania cara Aleksandra II został aresztowany i w roku 1887 zesłany na 5 lat na Syberię. Tam też zetknął się z ideami marksistowskimi i zaczął je zgłębiać. Spoglądał na nie jednak z wielką dozą sceptycyzmu, uważając, że są niekiedy dalekie od polskiej rzeczywistości. Stał się zatem zwolennikiem tzw. socjalizmu niepodległościowego. Od roku 1910 rozwijał działalność Związków Strzeleckich w Galicji, które miałyby być w przyszłości zalążkiem polskich sił zbrojnych.
- C. Od najmłodszych lat przejawiał uzdolnienia muzyczne, które zaowocowały nauką w latach 1872-1878 w warszawskim Instytucie Muzycznym, gdzie studiował grę na fortepianie. Jego operę „Manru” wystawiono 14 lutego 1902 roku w słynnej Metropolitan Opera w Nowym Jorku. W 1910 roku odsłonięto w Krakowie ufundowany przez niego Pomnik Grunwaldzki. Największe zasługi dla niepodległości Polski oddał na gruncie amerykańskim, korzystając ze swej ogromnej popularności lobbował za sprawą polską wśród tamtejszych decydentów, mając dostęp nawet do administracji prezydenta Thomasa Woodrowa Wilsona.
- D. Wychowany w górniczej rodzinie od najmłodszych lat przejawiał żywe zainteresowanie sprawą polskiego odrodzenia narodowego na niemieckim wówczas Śląsku. Swymi ideami starał się zarazić jak największe grono zamieszkujących Górny Śląsk rodaków, publikując m.in. liczne artykuły na łamach redagowanych przez siebie gazet – „Górnoślązaka” oraz „Polaka”. O polskie interesy dbał także będąc m.in. długoletnim posłem do Reichstagu, a także pruskiego Landtagu. Nie mogąc pogodzić się z planowanym podziałem Górnego Śląska po przeprowadzonym w marcu 1921 r. plebiscycie stanął na czele powstania zbrojnego.



- E. Kończąc rosyjski Uniwersytet Warszawski był już wówczas członkiem Związku Młodzieży Polskiej „ZET” oraz Ligi Polskiej, którą w roku 1893 przekształcił w tajną Ligę Narodową. przejął w 1895 r. we Lwowie redakcję „Przeglądu Wszechpolskiego”, którego nazwa z czasem symbolizować zaczęła cały ruch, a on sam wraz z Zygmuntem Balickim i Janem Popławskim stawał się jego głównym ideologiem. Napisał m.in. dzieła programowe: „Nasz patriotyzm” oraz „Myśli nowoczesnego Polaka”.
- F. Droga kariery politycznej, którą obrał przynosiła mu niemało sukcesów. Od 1897 roku zasiadał on w wiedeńskiej Radzie Państwa, w której – będąc członkiem Związku Posłów Socjalno-Demokratycznych – zasłynął jako wybitny mówca i polemista. Piastował również godność radnego miasta Krakowa, a także redagował poczytne i opiniotwórcze socjalistyczne pismo „Naprzód”. W nocy z 6 na 7 listopada 1918 roku stanął na czele Tymczasowego Rządu Ludowego Republiki Polskiej w Lublinie. Piłsudski po swym powrocie do kraju widział w nim pierwszego premiera niepodległej Polski, jednak kandydatura ta została zablokowana przez Narodową Demokrację.

*(Krzysztof Kloc, Różnymi ścieżkami ku Niepodległej szli. Ojcowie Polski Odrodzonej: <https://niepodlegla.gov.pl/o-niepodleglej/roznymi-sciezkami-ku-niepodleglej-szli-ojcowie-polski-odrodzonej/>)*

### **Zadanie 30 (2 punkty)**

Podaj skąd i kiedy (dzień, miesiąc, rok) wyruszył poniższy oddział?




.....

**Zadanie 31 (5 punkty)**

Podpisz zdjęcia, wykorzystując podane niżej opisy:



1.....




2.....



3.....



4.....



5.....

- a. Komitet Narodowy Polski
- b. Woodrow Willson przemawia przed Kongresem USA
- c. Rada Regencyjna po zaprzysiężeniu
- d. Otwarcie Sejmu Ustawodawczego
- e. Rząd Jędrzeja Moraczewskiego
- f. Rada Narodowa Śląska Cieszyńskiego

### Zadanie 32 (2 punkty)

Na podstawie poniższego tekstu i wiedzy pozaźródłowej dokończ zamieszczone pod nim zdania:

*Szerzy się w Polsce nowy ruch wśród młodzieży, obcy pochodzeniem, rodzimy swą treścią ideową. Jest to skaut – organizacja dzielnego wychowania młodzieży. Cechą skautingu jest szczęśliwe powiązanie zasad wychowania fizycznego i moralnego. Skaut powstał na polu walki. Angielski generał Baden-Powell w czasie obrony Mejjkingu [właściwie Mafekingu – przyp. autora] przed burami zebrał kilkunastoletnich chłopców i stworzył z nich oddziały wywiadowcze. Roznosili rozkazy i pełnili służbę obozową. Uwijali się tak szybko, że według ich słów – kule nie mogły ich dosięgnąć. Dziś w Anglii jest milion skautów i w całej Europie rosną ich szeregi. Przeszczepiono i na polską rolę ten kwiat rycerskiej kultury. I w całej Polsce zaczynają się uczyć służby obronnej [...]. (Rola Krakowa w odzyskaniu niepodległości, Opracowanie redakcyjne Mariusz Jabłoński, Kraków 2017, s.21)*

- a. Twórcą polskiego skautingu był (imię i nazwisko):  
.....
- b. Pierwsze 4 drużyny skautowe powstały w (podaj miasto):  
.....

### Zadanie 33 (5 punkty)

Zaznacz, które ze poniższych zdań są prawdziwe:

- a. Budowa portu w Gdyni była inicjatywą Józefa Piłsudskiego (Prawda/Fałsz)
- b. W ramach Centralnego Okręgu Przemysłowego powstały fabryki chemiczne w Dębicy i Mościcach (Prawda/Fałsz)
- c. Janusz Jędrzejewicz przeprowadził reformę szkolnictwa II RP (Prawda/Fałsz)
- d. W okresie międzywojennym światową sławę zyskała lwowska szkoła matematyczna (Prawda/Fałsz)
- e. Franciszek Żwirko i Stanisław Wigura wygrali wyścig samochodowy w Monte Carlo (Prawda/Fałsz)

### Zadanie 34 (1 punkt)

Zaznacz wszystkie organizacje, które walczyły zbrojnie w czasie II wojny światowej:

- a. ZWZ
- b. AK
- c. BCh
- d. SZP
- e. PKWN

### Zadanie 35 (3 punkty)

Uzupełnij poniższą tabelkę:

| Wydarzenie                                | Data (rok) |
|---|------------|
| Nowa konstytucja III RP                   |            |
| Przystąpienie Polski do NATO              |            |
| Przystąpienie Polski do Unii Europejskiej |            |

# Brudnopsis

.....  
.....  
.....  
.....  
.....  
.....  
.....  
.....  
.....  
.....  
.....  
.....  
.....  
.....  
.....  
.....  
.....  
.....  
.....  
.....  
.....  
.....  
.....  
.....  
.....  
.....  
.....  
.....  
.....  
.....  
.....  
.....  
.....  
.....  
.....  
.....  
.....  
.....  
.....  
.....  
.....  
.....  
.....  
.....  
.....  
.....  
.....  
.....  
.....  
.....  
.....  
.....

# Brudnopsis

.....

.....

.....

.....

.....

.....

.....

.....

.....

.....

.....

.....

.....

.....

.....

.....

.....

.....

.....

.....

.....

.....