



Kod ucznia .....

## **Małopolski Konkurs Historyczny**

dla uczniów szkół podstawowych  
województwa małopolskiego  
w roku szkolnym 2018/2019

„Na drogach do Niepodległej. Historia Polski  
od powstania styczniowego do pokoju ryskiego”

15 października 2018 roku

### **Etap szkolny**

#### **Wypełnia Komisja Szkolna**

Miejsce na dane ucznia

Numer zadania	Maksymalna liczba punktów możliwa do uzyskania w poszczególnych zadaniach	Liczba punktów uzyskanych przez uczestnika w poszczególnych zadaniach
1.	5	
2.	1	
3.	1	
4.	1	
5.	4	
6.	6	
7.	1	
8.	4	
9.	1	
10.	2	
11.	3	
12.	3	
13.	4	
14.	1	
15.	3	
16.	3	
17.	3	
18.	3	
19.	4	
20.	6	
21.	5	
22.	3	
23.	6	
24.	3	
25.	5	
26.	1	
27.	1	
28.	1	
29.	1	
30.	6	
31.	1	
32.	1	
33.	5	
34.	2	
Suma punktów	Możliwych punktów do uzyskania: <b>100</b>	Uzyskanych punktów:

Ilość uzyskanych punktów po weryfikacji .....

Czytelny podpis osoby sprawdzającej : .....

Czytelny podpis osoby weryfikującej : .....

## Przed rozpoczęciem pracy przeczytaj poniższą instrukcję

1. Sprawdź, czy arkusz konkursowy zawiera **14 stron**. Ewentualny brak zgłoś przewodniczącemu zespołu nadzorującego.
2. Zakoduj swoją pracę. Nie podpisuj kartek imieniem i nazwiskiem.
3. Przed Tobą zestaw **34 zadań konkursowych**.
4. Za poprawne rozwiązanie wszystkich zadań możesz uzyskać **100 punktów**.
5. Przy każdym zadaniu podana jest maksymalna ilość punktów, którą można uzyskać.
6. Na rozwiązanie zestawu masz **90 minut**. Komisja konkursowa 15 minut przed końcem przypomni Ci o upływającym czasie.
7. Czytaj uważnie wszystkie polecenia.
8. Odpowiedzi należy wpisywać tylko długopisem lub piórem z atramentem koloru czarnego lub niebieskiego. Odpowiedzi zapisane ołówkiem nie będą oceniane.
9. Pisz czytelnie – odpowiedzi nieczytelne nie będą oceniane!
10. Zapisuj słowa w pełnym brzmieniu – nie stosuj skrótów. Błędny zapis nazwisk, nazw, pojęć, terminów, dat powoduje nieprzyznanie punktów.
11. Błędne zapisy wyraźnie przekreśl. Przy błędnych zaznaczeniach w pytaniach testowych należy pisać: dobrze, źle.
12. Nie wolno używać korektora – zadanie, w którym użyto korektora nie będzie oceniane.
13. Brudnopis nie podlega ocenie.
14. Wyłącz telefon komórkowy, jeśli go posiadasz.
15. Stwierdzenie niesamodzielnosci pracy lub przeszkadzanie innym, spowoduje wykluczenie Cię z udziału w konkursie.

Życzymy Ci powodzenia!

Organizatorzy Konkursu

**Zadanie 1 (5 punktów)**

Napisz jakiej cywilizacji zawdzięczamy:

- a. Wynalezienie koła - .....
- b. Podział roku na 12 miesięcy - .....
- c. Odkrycie właściwości igły magnetycznej - .....
- d. Wprowadzenie kalendarza juliańskiego - .....
- e. Zaprowadzenie teatru - .....

**Zadanie 2 (1 punkt)**

Która z poniższych postaci nie pasuje do pozostałych (podkreśl poprawną odpowiedź):

- a. Zeus
- b. Chorus
- c. Jowisz
- d. Atena
- e. Odyseusz
- f. Apollo

**Zadanie 3 (1 punkt)**

Zaznacz ustrój państwa, w którym żył Perykles

- a. Republika
- b. Monarchia absolutna
- c. Demokracja
- d. Cesarstwo





**Zadanie 4 (1 punkt)**

Rok 1054 zapoczątkował (podkreśl poprawną odpowiedź):

- a. wielką schizmę wschodnią
- b. czas krucjat
- c. rozpad Państwa Franków

### Zadanie 5 (4 punkty)

Napisz w jakim stylu architektonicznym, zostały zbudowane przedstawione na zdjęciu budynki:

 <p>a. ....</p>	 <p>b. ....</p>
 <p>c. ....</p>	 <p>d. ....</p>

### Zadanie 6 (6 punktów)

Podaj datę (1 pkt) i nazwę każdego z wydarzeń (1 pkt) przedstawionych w tekstach poniżej:

- a. *Następnie cesarz na wieść o cudach, jakie Bóg działał przez milego sobie męczennika Wojciecha, pospieszył tamże celem pomodlenia się [przy jego grobie]. [...] Minąwszy granicę Milczan, doszedł do ziemi Dziadoszan, gdzie z niezmierną serdecznością wyszedł mu powitanie Bolesław, którego imię tłumaczy się „większa sława” nie za zasługi, lecz w myśl dawnego zwyczaju [...]. W jaki zaś sposób był cesarz przez niego wówczas podejmowany i przez jego kraj aż do Gniezna wiedziony, rzecz to nie do uwierzenia i wprost nie da się opowiedzieć. Widząc z daleka miasto upragnione szedł doń pobożnie bosymi stopami, a przyjęty z czcią niezwykłą przez biskupa tamiecznego Ungera, wprowadzony został do kościoła, błagając zlanymi łzami wstawiennictwa świętego męczennika dla pozyskania sobie łaski Chrystusowej. I niezwłocznie ustanowił tam arcybiskupstwo, jak sądzę: prawnie [...]. Archidiecezję tę powierzył bratu wspomnianego męczennika, Radzymowi, poddając mu Poppona, biskupa*

*katedry kołobrzesckiej, Poppona krakowskiego, Jana wrocławskiego, wyłączwszy Ungera poznańskiego, a sporządziwszy tamże ołtarz, złożył na nim z niezmierną czcią święte relikwie (Monumenta Poloniae Historica, t. I, s. 250; przekład R. Grodeckiego, Budowa Państwa Polskiego(963—1138), Kraków 1923, s. 4-5)*

.....

- b. *Gdy poczuł, że [los] żąda już od niego śmiertelnej powinności, poleca spisać dokumenty testamentowe. Przekazuje w nich w spadku czterem synom i to, co osiągnięte zasługami przodków, i następstwo w królestwie, wyznaczając stałe granice czterech dzielnic w ten sposób, że w rękę najstarszego miało pozostać i księstwo dzielnicy krakowskiej, i władza zwierzchnia. (Mistrz Wincenty zwany Kadłubkiem, Kronika polska, przeł. i oprac. Brygida Kürbis, Wrocław 1992.)*
- .....

- c. *Niechże więc tam będzie nauk przemożnych perła, aby wydawała męże dojrzałością rady znakomite, ozdobą cnót świetne i w równych umiejętnościach biegle...Niechże do tego miasta Krakowa zjeżdżają się swobodnie i bezpiecznie wszyscy mieszkańcy królestwa naszego i krajów przyległych, ale i inni ze wszystkich stron świata (Feliks Kuryk, Nauk przemożnych perła, Kraków 1986, s.57)*
- .....

### **Zadanie 7 (1 punkt)**

Uporządkuj w porządku chronologicznym poniższych władców Polski



1. ....,

2. ....,

3. ....

### Zadanie 8 (4 punkty)

Uzupełnij poniższy tekst:

- a. Według Marcina Lutra zbawienie człowieka następuje na podstawie jego ..... a nie przez uczynki a jedynym źródłem prawd wiary jest .....
- b. Jan Kalwin uważał, że Bóg przeznaczył część ludzi do zbawienia a resztę skazał na potępienie (doktryna .....). Należy odrzucić kult .....

### Zadanie 9 (1 punkt)

W czasie wojen w XVII wieku Polacy nie walczyli ze Szwedami pod (podkreśl poprawną odpowiedź):

- a. Kircholmem
- b. Oliwą
- c. Chocimiem
- d. Jasną Górą

### Zadanie 10 (2 punkty)

Zamieszczona poniżej ilustracja przedstawia jedno z najtragiczniejszych wydarzeń w dziejach Polski. Podaj jego nazwę (1 pkt) i datę kiedy miało miejsce (1pkt)



Nazwa wydarzenia.....  
Data wydarzenia .....

**Zadanie 11 (3 punkty)**

Poniższe ilustracje przedstawiają herby państwowe. Dopasuj nazwę państwa do zamieszonego obrazu.



a



b



c

1. Rzeczpospolita Obojga Narodów
2. Królestwo Polskie
3. Wielkie Księstwo Poznańskie
4. Księstwo Warszawskie

a.....

b.....

c.....

**Zadanie 12 (3 punkty)**

Podaj nazwy zasad, którymi kierowali się uczestnicy Kongresu Wiedeńskiego podczas swoich obrad

- a. Prawa dynastii są nienaruszalne ponieważ władza pochodzi od Boga a nie od ludu – zasada .....
- b. Państwa będą dążyły, aby żadne z nich nie uzyskało przewagi na kontynencie europejskim – zasada .....
- c. Należy przywrócić do władzy dynastie, które zostały obalone przed rokiem 1815 – zasada .....

**Zadanie 13 (4 punkty)**

Wydarzenia z poniższej rozsypanki wpisz do tabeli

*Powstanie Listopadowe, Powstanie Wielkopolskie 1848, Powstanie 1846, Powstanie Styczniowe,*

Ludwik Mierosławski	
Edward Dembowski	
Piotr Wysocki	
Romuald Traugutt	



**Zadanie 14 (1 punkt)**

Które z poniższych wydarzeń nie miało miejsca w XIX wieku (podkreśl poprawną odpowiedź)

- a. Branka
- b. Bitwa pod Olszynką Grochowską
- c. Rabacja galicyjska
- d. Bitwa pod Raławicami

**Zadanie 15 (3 punkty)**

Podaj 3 różne przyczyny ekspansji kolonialnej w II połowie XIX wieku

- a. ....  
.....
- b. ....  
.....
- c. ....  
.....

**Zadanie 16 (3 punkty)**

Podaj imię i nazwisko osoby, której dotyczy poniższy opis:

- a. Premier, a następnie kanclerz rządu, zwolennik zjednoczenia swojego państwa „krwią i żelazem”
  - b. Prezydent kraju, zwolennik zniesienia niewolnictwa, zamordowany po zakończeniu wojny secesyjnej.
  - c. Król Sardynii i Piemontu oraz pierwszy król zjednoczonych Włoch
- a.....  
b.....  
c.....

**Zadanie 17 (3 punkty)**

Uzupełnij poniższe zadania wpisując do poniższych definicji odpowiednie pojęcia lub nazwy:

Przykładami polityki germanizacji wobec narodu polskiego były:

- a. ....  
- nazwa pochodzi od egzaminu z historii, literatury niemieckiej i filozofii ,  
któremu poddawano każdego księdza w Niemczech
- b. ....  
- podczas których wysiedlano osoby przybyłe z zaboru rosyjskiego i austriackiego

- c. ....  
która wykupywała ziemie z polskich rąk, aby osiedlić na niej Niemców.

**Zadanie 18 (3 punkty)**

Zaznacz, które z poniższych zdań są prawdziwe a które fałszywe

- a. Autonomia galicyjska pozwalała na to, aby Polacy zasiadali w galicyjskim sejmie krajowym (**Prawda/Falsz**)
- b. Trójlojalizm zalecał wyrzekanie się własnej narodowości i służenie wiernie zaborcy, na terenie którego mieszkali Polacy (**Prawda/Falsz**)
- c. Po klęsce Powstania Styczniowego w zaborze rosyjskim język polski stał się przedmiotem nieobowiązkowym i nauczany po rosyjsku (**Prawda/Falsz**)

**Zadanie 19 (4 punkty)**

Podaj nazwę (**1 pkt**) i oraz imię i nazwisko autora (**1 pkt**) każdej z poniższych koncepcji odrodzonej Polski

- a. Koncepcja zakładała wcielenie ziem uważanych za etnicznie polskie do Rzeczypospolitej oraz asymilację osób o pochodzeniu niepolskim. Działanie to miało doprowadzić do powstania państwa jednolitego pod względem narodowościowym. Na wschodzie w składzie kraju miały znaleźć się tereny z przeważającą liczbą ludności polskiej, co ułatwiłoby proces polonizacji.
- b. Koncepcja zakładała utworzenie związku Polski wraz z Litwą, Białorusią, a w przyszłości również z Ukrainą. Państwa te miały stanowić zapórę przed najazdem wojsk bolszewickich.

- a. ..../  
autor:.....
- b. ..../  
autor :.....

**Zadanie 20 (6 punktów):**

Wskaż partię wpisując ją w odpowiednie miejsce w tabeli, której liderami lub przywódcami byli:

Lider / przywódca partii	Nazwa partii
Ludwik Waryński	
Stanisław Wojciechowski	
Julian Marchlewski	
Roman Dmowski	
Ignacy Daszyński	
Wincenty Witos	

- a. Polska Partia Socjalno-Demokratyczna Galicji i Śląska
- b. Wielki Proletariat
- c. Socjaldemokracja Królestwa Polskiego
- d. Polska Partia Socjalistyczna
- e. Polskie Stronnictwo Ludowe
- f. Stronnictwo Narodowo-Demokratyczne

**Zadanie 21 (5 punktów)**

Na podstawie załączonej ilustracji podaj, które państwa były zaangażowane w konflikty bałkańskie przed I wojną światową.



1.....2.....3.....

4.....5.....

### Zadanie 22 (3 punkty)



Autor: Jerzy Kossak (1934 r.)

Obraz przedstawia wydarzenie.....  
Wydarzenie to miało miejsce w roku ..... a oddziałem dowodził .....

### Zadanie 23 (6 punktów)

Podaj kto (imię i nazwisko – **1 pkt**) i kiedy (data – **1 pkt**) wydał poniższe odezwy i deklaracje:

- a. *Do mieszkańców Warszawskiego jeneralnego gubernatorstwa! Przejęci niezłomną ufnością w ostateczne zwycięstwo ich broni i życzeniem powodowani, by ziemie polskie przez waleczne ich wojska ciężkimi ofiarami rosyjskiemu panowaniu wydarte do szczęśliwej przywieść przyszłości, Jego Cesarska Mość Cesarz Niemiecki oraz Jego Cesarska i Królewska Mość Cesarz Austrii i Apostolski Król Węgier postanowili z ziem tych utworzyć państwo samodzielne z dziedziczną monarchią i konstytucyjnym ustrojem. Dokładniejsze oznaczenie granic Królestwa Polskiego zastrzega się. Nowe królestwo znajdzie w łączności z obu sprzymierzonymi mocarstwami rękojmię potrzebną do swobodnego sił swych rozwoju.*
- b. *Należy stworzyć niezawisłe państwo polskie, które winno obejmować terytoria zamieszkane przez ludność niezaprzeczalnie polską, któremu należy zapewnić swobodny i bezpieczny dostęp do morza i którego niezawisłość polityczną i gospodarczą oraz integralność terytorialną należy zagwarantować paktem międzynarodowym. Winno być utworzone powszechne zrzeszenie narodów na podstawie szczegółowych umów celem udzielenia wszystkim państwom, zarówno wielkim, jak i małym, wzajemnych gwarancji niezawisłości politycznej i całości terytorialnej.*

c. *Polacy! Wybiła godzina, w której przekazane Wam marzenie ojców i dziadów Waszych ziścić się może. Przed półtora wiekiem żywe ciało Polski rozszarpano na kawały, ale dusza jej nie umarła. Żyła ona nadzieją, że nadejdzie godzina zmartwychwstania dla Narodu Polskiego i dla pojednania się braterskiego z Wielką Rosyą. Wojsko rosyjskie niesie Wam błogą wieść owego pojednania. Niechaj się zatrą granice, rozcinające na części Naród Polski. Niech Naród Polski połączy się w jedno ciało pod berłem Cesarza Rosyjskiego. Pod berłem tem odrodzi się Polska, swobodna w swojej wierze, języku i samorządzie.*

- a.....
- b.....
- c.....

**Zadanie 24 (3 punkty)** Uzupełnij poniższy tekst:

Poniższy plakat zachęca do wstępowania do polskiej armii we Francji dowodzonej przez (podaj imię i nazwisko)..... , nad którą polityczne zwierzchnictwo sprawował (podaj pełną nazwę organizacji politycznej)..... Na czele tej organizacji stał (podaj imię i nazwisko).....



**Zadanie 25 (5 punktów)** Uzupełnij tabelę wpisując w wybrane rubryki polskie organy władzy powstałe pod koniec I wojny światowej.

Nazwa organu władzy	Siedziba
	Cieszyn
	Kraków
	Lublin
	Poznań
	Warszawa

- a. Rada Regencyjna
- b. Tymczasowy Rząd Ludowy Republiki Polskiej
- c. Polska Komisja Likwidacyjna
- d. Narodowa Księstwa Cieszyńskiego
- e. Naczelana Rada Ludowa

**Zadanie 26 (1 punkt)**

Sprawę polską na Konferencji w Paryżu trwającej w latach 1919 – 1920 reprezentowali (podkreśl poprawną odpowiedź).

- a. Roman Dmowski i Ignacy Jan Paderewski
- b. Józef Piłsudski i Jędrzej Moraczewski
- c. Roman Dmowski i Józef Piłsudski
- d. Ignacy Jan Paderewski i Józef Piłsudski

**Zadanie 27 (1 punkt)**

Wskaż chronologicznie pierwsze i ostatnie wydarzenie. Zapisz w tabeli cyfrą 1 wydarzenie chronologicznie pierwsze i cyfrą 2 wydarzenie chronologicznie ostatnie.

Powstanie Rządu Tymczasowego w Rosji	
Atak bolszewików na Pałac Zimowy	
Pokój Brzeski	
Zamordowanie cara Mikołaja II	
Ogłoszenie tzw. tez kwietniowych	

**Zadanie 28 (1 punkt)**

Uzupełnij poniższy tekst wpisując **dzień/miesiąc/rok**:

*W 1937 roku w Polsce zorganizowano pierwsze obchody Święta Niepodległości jako ustawowego święta państwowego. Jako datę pełnego odzyskania niepodległości przyjęto ....., dzień kiedy Rada Regencyjna przekazała władzę nad podległym jej wojskiem Józefowi Piłsudskiemu.*

### Zadanie 29 (1 punkt)

Zaznacz z kim II Rzeczpospolita nie posiadała podpisanego sojuszu militarnego.

- a. ZSRS
- b. Francja
- c. Rumunia

### Zadanie 30 (6 punktów)

Przeczytaj poniższe teksty opisujące ustrój państwa polskiego w XX wieku i podaj nazwę **(1pkt)** i datę powstania aktu prawnego **(1 pkt)**, z którego zaczerpnięto cytowane fragmenty:

- a. *Polska Rzeczpospolita Ludowa jest państwem demokracji ludowej. W Polskiej Rzeczypospolitej Ludowej władza należy do ludu pracującego miast i wsi. Lud pracujący sprawuje władzę państwową przez swych przedstawicieli, wybieranych do Sejmu Polskiej Rzeczypospolitej Ludowej i do rad narodowych w wyborach powszechnych, równych, bezpośrednich, w głosowaniu tajnym. Przedstawiciele ludu W Sejmie Polskiej Rzeczypospolitej Ludowej i w radach narodowych są odpowiedzialni przed swymi wyborcami i mogą być przez nich odwoływani.*
- b. *Państwo Polskie jest wspólnym dobrem wszystkich obywateli. Na czele Państwa stoi Prezydent Rzeczypospolitej. Na Nim spoczywa odpowiedzialność wobec Boga i historii za losy Państwa. Organami Państwa, pozostającymi pod zwierzchnictwem Prezydenta Rzeczypospolitej, są: Rząd, Sejm, Senat, Siły Zbrojne, Sądy.*
- c. *Władza zwierzchnia w Rzeczypospolitej Polskiej należy do Narodu. Organami Narodu w zakresie ustawodawstwa są Sejm i Senat, w zakresie władzy wykonawczej — Prezydent Rzeczypospolitej łącznie z odpowiedzialnymi ministrami, w zakresie wymiaru sprawiedliwości — niezawisłe Sądy. Sejm składa się z posłów, wybranych na lat pięć, licząc od dnia otwarcia Sejmu, w głosowaniu powszechnym, tajnym, bezpośrednim, równym i stosunkowym. Prezydenta Rzeczypospolitej wybierają na lat siedm bezwzględną większością głosów Sejm i Senat, połączone w Zgromadzenie Narodowe. Zgromadzenie Narodowe zwołuje Prezydent Rzeczypospolitej w ostatnim kwartale siedmioletnia swego urzędowania.*

- a. ....
- b. ....
- c. ....

**Zadanie 31 (1 punkt)**

W którym z poniższych wydarzeń nie uczestniczyło państwo niemieckie? (podkreśl poprawną odpowiedź)

- a. Pakt Ribbentrop - Mołotow
- b. Anschluss Austrii
- c. „Krwawa niedziela”
- d. Konferencja monachijska

**Zadanie 32 (1 punkt)**

Wskaż – z jakiego okresu historii pochodzi układ polityczny Europy przedstawiony na poniższej mapie?



.....



### Zadanie 33 (5 punktów)

Uzupełnij poniższą tabelę przedstawiającą „Polskie miesiące” w okresie PRL-u o brakujące dane (każda poprawna odpowiedź - 1 pkt )

<i>Miesiąc i rok</i>	<i>Miejsce głównych wystąpień</i>
	Poznań
	Warszawa/Kraków/Łódź/Wrocław
	Gdynia/Gdańsk/Szczecin/Elbląg
	Ursus/Radom
Sierpień 1980	Gdańsk/Szczecin/Górny Śląsk
	Kopalnia Wujek w Katowicach

### Zadanie 34 (2 punkty)

Uzupełnił tekst:

*Poniższe zdjęcie przedstawia spotkanie prymasa Polski (imię i nazwisko) .....  
i papieża .....*



fot. PAP/Jan Morek



