

KURATORIUM OŚWIATY
W KRAKOWIE

Kod ucznia

Małopolski Konkurs Geograficzny
dla uczniów szkół podstawowych województwa małopolskiego
w roku szkolnym 2020/2021

Etap wojewódzki

Liczba punktów możliwych do uzyskania: 80

Suma uzyskanych punktów:

Metryczka (wypełnia komisja konkursowa):

imię i nazwisko ucznia:

szkoła:

Droga Uczennico! Drogi Uczniu!

1. Arkusz konkursu zawiera 18 zadań i brudnopis (**który nie będzie oceniany**).
2. Na rozwiązanie arkusza masz **90 minut**.
3. Sprawdź, czy zestaw pytań, który otrzymałaś/otrzymałeś, składa się z 14 stron.
4. **Nie podpisuj kartek imieniem i nazwiskiem - dotyczy to również metryczki.**
5. Podczas rozwiązywania arkusza obowiązuje **bezwzględny zakaz używania telefonów komórkowych, tabletów, komputerów oraz innych urządzeń elektronicznych i telekomunikacyjnych.**
6. Możesz korzystać z linijki oraz tradycyjnego, prostego kalkulatora.
7. W zadaniach zamkniętych prawidłowe **odpowiedzi zaznaczaj w odpowiednich miejscach symbolem x.** W większości zadań należy wybrać **jedną** odpowiedź (chyba, że w poleceniu wyraźnie napisano inaczej).
8. Do zaznaczania odpowiedzi używaj długopisu. Odpowiedzi zaznaczone ołówkiem nie będą oceniane.
9. Jeśli się pomylisz **błędna odpowiedź zakreśl kółeczkiem ⊗.**
10. Pamiętaj, aby nie używać korektora. Jeśli musisz poprawić błędnie wpisane słowo lub numer przekreśl je oraz wpisz właściwe.
11. Brak wyboru odpowiedzi lub zaznaczenie większej liczby odpowiedzi niż wskazano w poleceniu będzie traktowane jako błędna odpowiedź, co będzie skutkowało przyznaniem 0 pkt. za określone zadanie.
12. Staraj się, aby Twoja praca była czytelna.
13. Stwierdzenie niesamodzielności pracy lub przeszkadzanie innym spowoduje wykluczenie Cię z udziału w konkursie.
14. **Wyłącz i schowaj telefon komórkowy, jeśli go posiadasz.**

POWODZENIA!

Zadanie 1. 0-10 pkt.

Na mapie Azji przedstawiono przebieg Kolei Transsyberyjskiej. Uzupełnij zdania w tabeli wpisując nazwy geograficzne uzupełniające obserwacje z podróży Koleją Transsyberyjską.

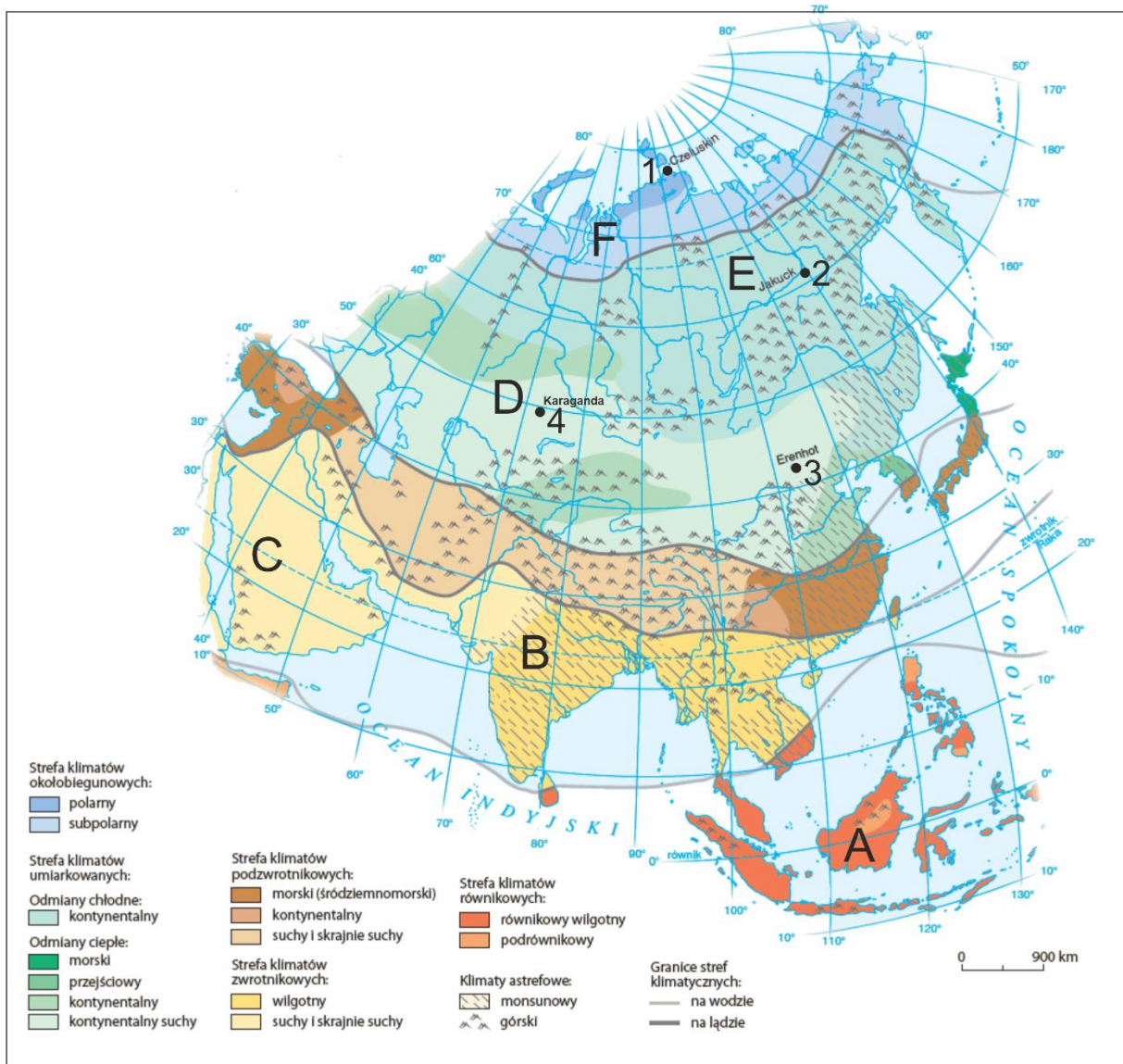


Obserwacje z podróży	Nazwa geograficzna uzupełniająca obserwacje z podróży
Pomiędzy Jarosławiem, a Permem Kolej Transsyberyjska przebiega przez rozległą krainę geograficzną ...	
W Jarosławiu zobaczyliśmy rzekę ...	
Od Jekaterynburga aż do Nowosybirsk podróżowaliśmy przez południowy kraniec rozległej krainy geograficznej ...	
W Omsku podziwialiśmy jedną z największych syberyjskich rzek o długości ok. 4200 km ...	
W Nowosybirsku ujrzeliśmy kolejną syberyjską rzekę ...	
W Irkucku dotarliśmy do rzeki ...	
Pomiędzy Krasnojarskiem, a Irkuckiem na południe od linii kolejowej widzieliśmy góry ...	
Od Irkucka aż do Ułan Ude linia kolejowa biegnie na południe od jeziora ...	
Wreszcie dojeżdżamy do Chabarowska leżącego nad rzeką ...	
Naszą podróż zakończyliśmy we Władywostoku na wybrzeżu Morza ...	

Liczba przyznanych punktów

Zadanie 2.

Mapa przedstawia strefy klimatyczne Azji oraz odmiany klimatów w nich występujące. Odmiany klimatów oznaczono literami A-F. Kropkami zaznaczono miejsca pomiaru temperatury powietrza oraz wielkości opadów. Miejsca te ponumerowano od 1-4. Wykonaj następujące polecenia:



dalszy ciąg zadania na następnej stronie

2.1. 0-6 pkt.

Dopasuj fotografie przedstawiające dominującą roślinność do odmian klimatów wpisując literę z mapy (A, B, C, D, E, F) w kratkę pod właściwą fotografią.

Uwaga. Litery nie mogą się powtarzać. W przypadku powtórzenia otrzymasz 0 pkt.

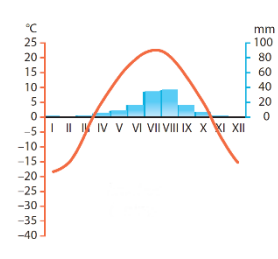
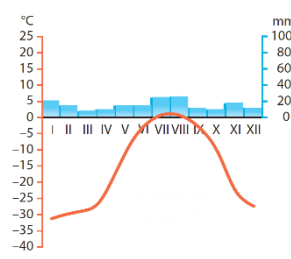
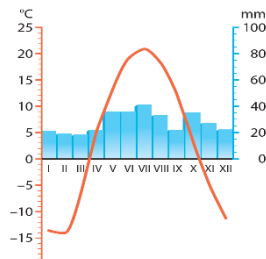
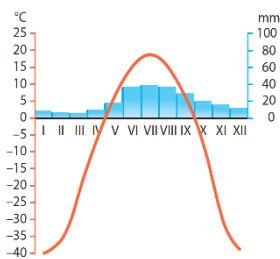


Liczba przyznanych punktów

2.2. 0-4 pkt.

Dopasuj klimatogramy do odmian klimatów wpisując numery z mapy (1, 2, 3, 4) w kratkę pod właściwym klimatogramem.

Uwaga. Numery klimatogramów nie mogą się powtarzać. W przypadku powtórzenia otrzymasz 0 pkt.

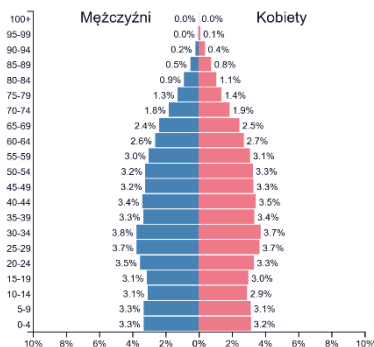


Liczba przyznanych punktów

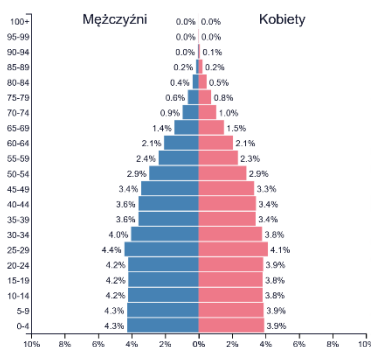
Zadanie 3. 0-3 pkt.

Piramidy prezentują strukturę wieku i płci społeczeństw **Afryki, Australii** oraz **Azji** w 2016 r. Wpisz w kratki pod piramidami wieku i płci nazwę kontynentu właściwą dla przedstawionej struktury.

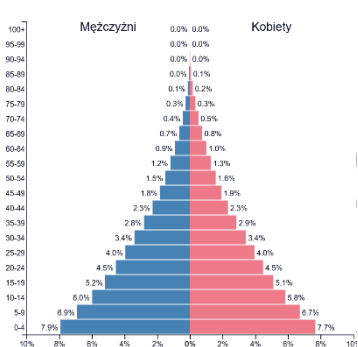
Uwaga. Nazwy kontynentów nie mogą się powtarzać. W przypadku powtórzenia otrzymasz 0 pkt.



1.



2.



3.

źródło: www.populationpyramid.net

Liczba przyznanych punktów

Zadanie 4. 0-1 pkt.

W którym zestawieniu wymieniono krainy geograficzne Azji **wyłącznie** o najlepszych przyrodniczych warunkach dla rozwoju rolnictwa?

- A. Nizina Indusu, Półwysep Arabski, Wyżyna Tybetańska
- B. Kotlina Tarymska (Kaszgarska), Wyżyna Środkowosyberyjska, Nizina Turańska
- C. Półwysep Indyjski, Nizina Chińska, Półwysep Indochiński
- D. Wyżyna Irańska, Nizina Kołymska, Pogórze Kazachskie

Liczba przyznanych punktów

Zadanie 5. 0-2 pkt.

W których krajach azjatyckich rozwija się nowoczesne, wysoko zmechanizowane rolnictwo?

Uwaga. Należy wybrać dwie odpowiedzi.

- A. w Japonii
- B. w Nepalu
- C. w Kambodży
- D. w Izraelu
- E. w Wietnamie

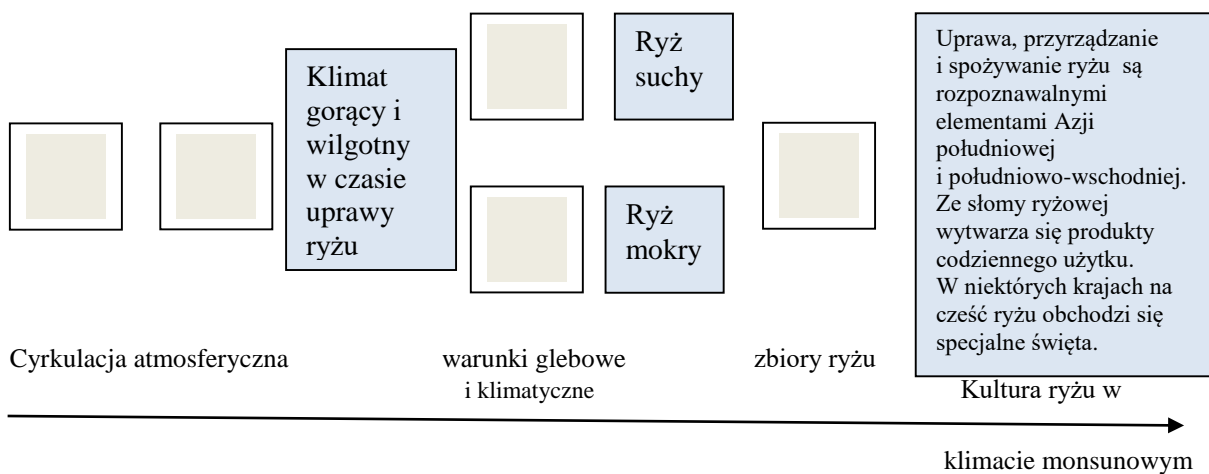
Liczba przyznanych punktów

Zadanie 6. 0-5 pkt.

Spośród wymienionych elementów wybierz właściwe i wpisz ich numery w kratki tak, aby powstał logiczny schemat kultury ryżu w klimacie monsunowym.

1. Żyzne gleby i wysoka temperatura przez cały okres wzrostu ryżu.
2. Żyzne gleby i duża wilgotność powietrza przez cały okres uprawy ryżu.
3. Monsun wiejący od lądu w kierunku morza.
4. Monsun wiejący od morza w kierunku lądu.
5. Cyrkulacja atmosferyczna w południowej i południowo-wschodniej Azji.
6. Klimat gorący i suchy podczas uprawy ryżu
7. Zbiory ryżu. Z Azji pochodzi ok. 90% światowej produkcji ryżu.
8. Zbiory ryżu . Z Azji pochodzi ok. 70% światowej produkcji ryżu.

Uwaga. Numery elementów nie mogą się powtarzać. W przypadku powtórzeń otrzymasz 0 pkt.

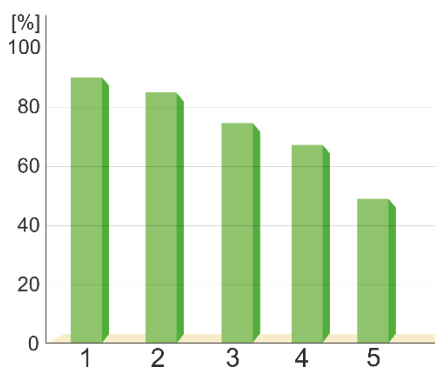


Liczba przyznanych punktów

Zadanie 7. 0-5 pkt.

Na wykresie przedstawiono procentowy udział krajów azjatyckich w światowej produkcji wybranych roślin uprawnych. Uzupełnij tabelę wpisując nr z wykresu dla odpowiedniej grupy roślin uprawnych.

Uwaga. Numery w tabeli nie mogą się powtarzać. W przypadku powtórzeń otrzymasz 0 pkt.



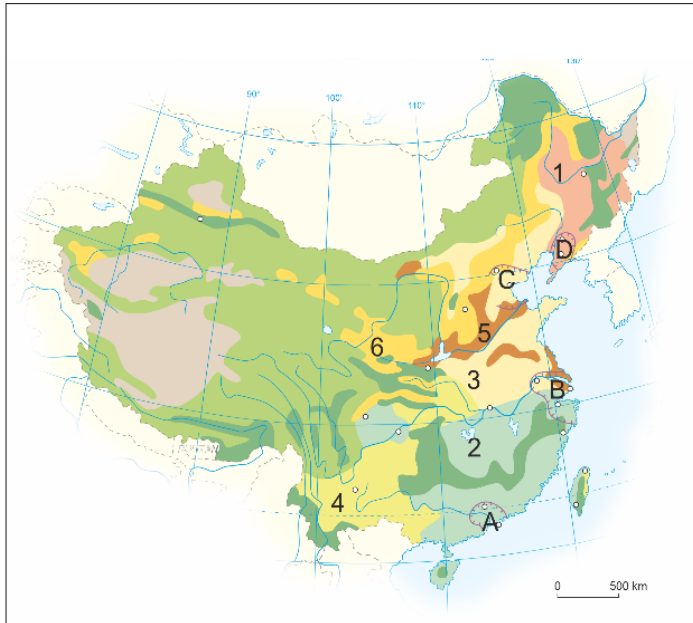
Nr	Wybrane rośliny uprawne
	herbata, kokosy
	tytoń, bawełna
	ryż, olej palmowy, kaczuk naturalny
	pszenica, ziemniaki
	bataty

Liczba przyznanych punktów

Zadanie 8. 0-8 pkt.

Na mapie numerami od 1-6 oznaczono obszary upraw rolnych, a literami A-D obszary koncentracji przemysłu. Uzupełnij tabelę, przypisując uprawom – numery, natomiast miejscom koncentracji przemysłu – litery.

Uwaga. Cyfry i litery nie mogą się powtarzać. W przypadku powtórzeń otrzymasz 0 pkt.



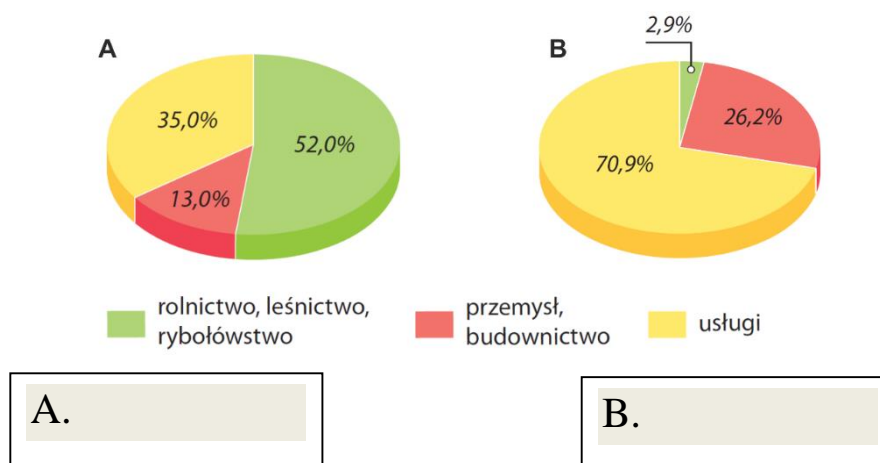
Oznaczenie na mapie	Obszary upraw rolnych, obszary koncentracji przemysłu
	Uprawy z przewagą pszenicy
	Uprawy z przewagą soi
	Uprawy z przewagą ryżu i kukurydzy
	Uprawy z przewagą pszenicy i kukurydzy
	Uprawy z przewagą bawełny
	Uprawy z przewagą ryżu
	Szanghaj
	Honkong

Liczba przyznanych punktów

Zadanie 9. 0-2

Na diagramach przedstawiono aktualną strukturę zatrudnienia w dwóch państwach Azji. Spośród wymienionych krajów – **Chiny, Indie, Japonia, Laos** wpisz w ramkę pod diagramami nazwę kraju odpowiednią do prezentowanej na diagramie struktury zatrudnienia.

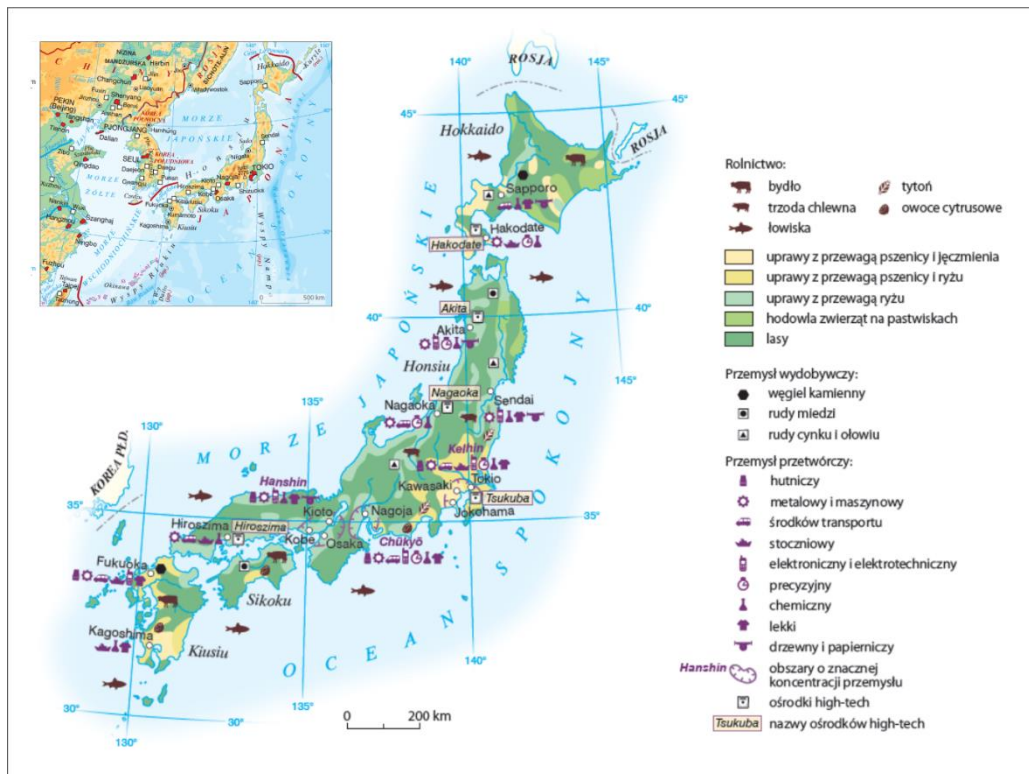
Uwaga. Dwa z podanych krajów nie pasują do żadnego diagramu. Nazwy krajów nie mogą się powtarzać. W przypadku powtórzenia nazwy otrzymasz 0 pkt.



Liczba przyznanych punktów

Zadanie 10.

Na podstawie mapy przedstawiającej gospodarkę Japonii wykonaj polecenia:



10.1. 0-1 pkt.

Spośród wymienionych czynników wskaż ten, który najbardziej wpłynął na rozmieszczenie przemysłu i upraw rolnych.

- A. rozmieszczenie złóż surowców naturalnych
- B. trzęsienia ziemi i wulkanizm
- C. klimat
- D. ukształtowanie powierzchni

Liczba przyznanych punktów

10.2. 0-1 pkt.

Spośród wymienionych czynników wskaż ten, który najbardziej przyczynił się do rozwoju przemysłu wysokich technologii.

- A. niedobór surowców naturalnych
- B. zasady obowiązujące w pracy wynikające z tradycji i zasad społecznych
- C. nadmiar energii elektrycznej
- D. sąsiedztwo gospodarki chińskiej i tempo jej rozwoju

Liczba przyznanych punktów

Zadanie 11. 0-3 pkt.

W tabeli zestawiono produkt krajowy brutto (w USD) na 1 mieszkańca w **Afryce, Australii z Oceanią** oraz w **Azji** w roku 2017. Wpisz nazwę kontynentu przy właściwej wartości produktu krajowego brutto (PKB).

Uwaga. Nazwy kontynentów nie mogą się powtarzać. W przypadku powtórzenia nazwy otrzymasz 0 pkt.

PKB na 1 mieszkańca w USD	Kontynent
6545	
41037	
1766	

Liczba przyznanych punktów

Zadanie 12. 0-1 pkt.

Jaka część światowych zasobów ropy naftowej w 2016 r. znajduje się na Bliskim Wschodzie?

- A. ok. 72%
- B. ok. 48%
- C. ok. 85%
- D. ok. 35%

Liczba przyznanych punktów

Zadanie 13. 0-2 pkt.

W którym zestawieniu znajdują się kraje afrykańskie **wyłącznie** z udziałem zatrudnionych w rolnictwie nie przekraczającym 40%?

- A. Czad, Etiopia, Tunezja
- B. Kenia, Botswana, Etiopia
- C. RPA, Tunezja, Botswana
- D. Botswana, Kenia, Czad

Liczba przyznanych punktów

Zadanie 14. 0-1 pkt.

Podstawową formą gospodarowania w strefie Sahelu jest:

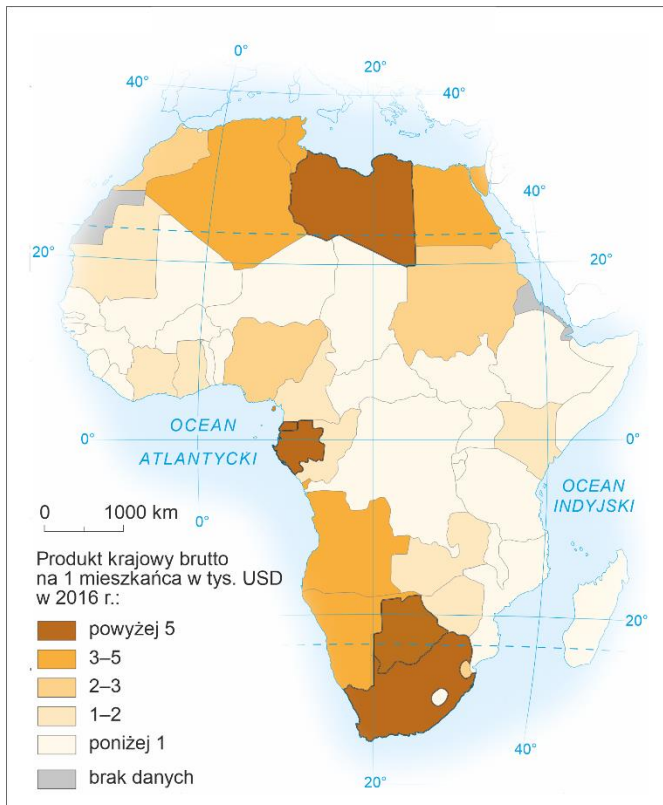
- A. rolnictwo plantacyjne
- B. pasterstwo koczownicze
- C. rolnictwo żarowo-odłogowe
- D. rolnictwo ugorowane w systemie trójpolowym

Liczba przyznanych punktów

Zadanie 15. 0-3 pkt.

Na podstawie mapy wymień **trzy** kraje afrykańskie – spośród pięciu, w których produkt krajowy brutto na 1 mieszkańca jest większy od 5 tys. USD. Nazwy krajów wpisz w komórki tabeli.

Uwaga. Nazwy krajów nie mogą się powtarzać. W przypadku powtórzenia nazwy otrzymasz 0 pkt.



Liczba przyznanych punktów

Zadanie 16. 0-3 pkt.

W opowieści z podróży po **Nowej Zelandii** znalazły się następujące zdania. Oceń ich prawdziwość zaznaczając znakiem **X** ocenę P (prawda) jeśli uważasz, że zdanie jest prawdziwe, ocenę F (fałsz) jeśli uważasz, że zdanie jest fałszywe.



Zdanie		Ocena	
1	W Parku Narodowym Westland widzieliśmy lodowce Fox i Franz Josef, które niczym potężne białoszare „rzeki” lodu spływają dolinami wprost do morza.	P	F
2	Wprost bajeczne krajobrazy nowozelandzkiej Wielkiej Wyspy stanowiły tło akcji wielu filmów, między innymi „Władcy Pierścieni” i „Opowieści z Narni”.	P	F
3	Ptak kiwi wyróżnia się wyglądem i zwyczajami. Dlatego stał się nieoficjalnym symbolem narodowym Nowej Zelandii, a od jego nazwy wzięło się potoczne określenie Nowozelandczyków – Kiwis.	P	F

Liczba przyznanych punktów

Zadanie 17. 0-10 pkt.

Podróż przez trzy kontynenty: Azję, Afrykę i Australię z Oceanią. Przyporządkuj fotografie z podróży do opisów w tabeli. Wpisz nr fotografii w pierwszej kolumnie tabeli.

Uwaga. Numery fotografii nie mogą się powtarzać. W przypadku powtórzeń otrzymasz 0 pkt.



Nr fot.	Opis
	Pekin – Zakazane Miasto.
	Kongo – wieś rybacka.
	Egipt – Świątynia Izydys.
	Indie – mauzoleum Tadž Mahal.
	Leh – meczet sunnicki i pałac.
	Wyspa Wielkanocna – moai.
	Kyoto – Złoty Pawilon (Świątynia Kinkaku-ji).
	Giza – Piramida Cheopsa (Wielka Piramida).
	Hajfa – ogrody Bahaitów.
	Sydney – budynek opery.

Liczba przyznanych punktów

Zadanie 18. 0-9 pkt.

Oceń prawdziwość poniższych zdań. Zaznacz znakiem **X** ocenę P (prawda) jeśli uważasz, że zdanie jest prawdziwe, ocenę F (fałsz) jeśli uważasz, że zdanie jest fałszywe.

Zdanie		Ocena		
1	W Izraelu dzięki sztucznemu nawadnianiu rolnictwo zaspokaja ponad 90% potrzeb żywieniowych mieszkańców.	P	<input type="checkbox"/>	F
2	Sahel jest obszarem leżącym na północ od Sahary.	P	<input type="checkbox"/>	F
3	Najbardziej znane gatunki herbat w Chinach uprawia się w prowincjach Junnan, Ulung i Syczuan.	P	<input type="checkbox"/>	F
4	Delhiwood to wielka indyjska fabryka snów, w której powstaje ok. 30% filmów produkowanych w Indiach.	P	<input type="checkbox"/>	F
5	W Kuwejcie znajduje się najwyższy budynek świata liczący 829 m.	P	<input type="checkbox"/>	F
6	Ceremonia Królewskiej Orki jest świętem ryżu w Tajlandii.	P	<input type="checkbox"/>	F
7	Budynek opery w Sydney w 2007 r. został wpisany na Listę Światowego Dziedzictwa UNESCO.	P	<input type="checkbox"/>	F
8	Ryż jest podstawowym składnikiem diety ponad 1/3 mieszkańców świata.	P	<input type="checkbox"/>	F
9	Legendarna Kartagina jest atrakcją turystyczną Maroka, słynącą z bogatej historii oraz urzekającej mozaiki kultur i krajobrazów.	P	<input type="checkbox"/>	F

Liczba przyznanych punktów

Brudnopis

Zapisy w brudnopisie nie są oceniane.