



Kod ucznia

Małopolski Konkurs Historyczny

dla uczniów dotychczasowych gimnazjów i klas
dotychczasowych gimnazjów prowadzonych w szkołach
innego typu

rok szkolny 2017/2018

„Polska w dobie królów elekcyjnych (1573-1795) na tle
wydarzeń z historii powszechnej”

5 marca 2018 r.

etap wojewódzki

Wypełnia Komisja Wojewódzka

Miejsce na dane ucznia

| Numer Zadania | Maksymalna liczba punktów możliwa do uzyskania w poszczególnych zadaniach | Liczba punktów uzyskanych przez uczestnika w poszczególnych zadaniach |
|---------------|---|---|
| 1. | 5 | |
| 2. | 1 | |
| 3. | 5 | |
| 4. | 1 | |
| 5. | 1 | |
| 6. | 8 | |
| 7. | 4 | |
| 8. | 7 | |
| 9. | 4 | |
| 10. | 9 | |
| 11. | 1 | |
| 12. | 1 | |
| 13. | 1 | |
| 14. | 3 | |
| 15. | 3 | |
| 16. | 2 | |
| 17. | 4 | |
| 18. | 1 | |
| 19. | 1 | |
| 20. | 4 | |
| 21. | 1 | |
| 22. | 4 | |
| 23. | 2 | |
| 24. | 2 | |
| 25. | 4 | |
| 26. | 4 | |
| 27. | 3 | |
| 28. | 4 | |
| 29. | 6 | |
| 30. | 4 | |
| Suma punktów | Możliwych punktów do uzyskania: 100 | Uzyskanych punktów: |

Ilość uzyskanych punktów po weryfikacji:

Czytelny podpis osoby sprawdzającej:

Czytelny podpis osoby weryfikującej :

Droga Gimnazjalistko, Drogi Gimnazjalisto!

Przed rozpoczęciem pracy przeczytaj poniższą instrukcję.

1. Zakoduj swoją pracę. Nie podpisuj kartek imieniem i nazwiskiem.
2. Przed Tobą zestaw **30** zadań konkursowych.
3. Za poprawne rozwiązanie wszystkich zadań możesz uzyskać **100** punktów.
4. Przy każdym zadaniu podana jest maksymalna ilość punktów, którą można uzyskać.
5. Na rozwiązanie zestawu masz **90 minut**. Komisja konkursowa 15 minut przed końcem przypomni Ci o upływającym czasie.
6. Czytaj uważnie wszystkie polecenia.
7. Odpowiedzi należy wpisywać tylko długopisem lub piórem z atramentem koloru czarnego lub niebieskiego. Odpowiedzi zapisane ołówkiem nie będą oceniane.
8. Pisz czytelnie – odpowiedzi nieczytelne nie będą oceniane!
9. Zapisuj słowa w pełnym brzmieniu – nie stosuj skrótów. Błędny zapis nazwisk, nazw, pojęć, terminów, dat powoduje nieprzyznanie punktów.
10. Błędne zapisy wyraźnie przekreśl. Przy błędnych zaznaczeniach w pytaniach testowych należy pisać: dobrze, źle.
11. Nie wolno używać korektora ani tzw. zmazywalnych środków piśmiennych – zadanie, w którym zostaną one użyte nie będzie oceniane.
12. Brudnopis nie podlega ocenie.
13. Wyłącz telefon komórkowy, jeśli go posiadasz.
14. Stwierdzenie niesamodzielności pracy lub przeszkadzanie innym, spowoduje wykluczenie Cię z udziału w konkursie.

Życzymy Ci powodzenia!

Organizatorzy konkursu

Zadanie 1 (5 punktów)

Zamieszczone poniżej definicje dotyczą zjawisk, które występowały w nowożytnej Rzeczypospolitej. Do każdej z nich dopisz odpowiedni termin:

- Forma ustroju państwa polskiego ukształtowana w XV-XVI w. i charakteryzująca się szerokimi uprawnieniami sejmików szlacheckich i ograniczeniem władzy królewskiej przez sejm złożony z reprezentantów szlachty -
- Staropolski sąd szlachecki, rozpatrujący apelacje od wyroków sądów niższych -
- W XVII-XVIII w. związek zawierany przez szlachtę dla osiągnięcia określonego ważnego celu, na przykład wyrażenia sprzeciwu wobec decyzji króla lub wypędzenia najeźdźców z kraju -
- Nurt artystyczno-literacki, uważany często za schyłkową odmianę baroku; w sztukach plastycznych przejawiający się szczególnie w ornamentyce, architekturze wnętrz i meblarstwie -
- Potoczna nazwa szlachty nie posiadającej majątków ziemskich, zwykle stanowiącej klientelę magnaterii -

Zadanie 2 (1 punkt)

Wskaż właściwe zakończenie zdania podkreślając wybraną przez siebie odpowiedź.

Dwa opozycyjne obozy, utworzone przez państewka niemieckie w 1608 r. i 1609 r., to:

- Unia Protestancka i Liga Katolicka
- Liga Protestancka i Unia Katolicka
- Unia Habsburska i Liga Katolicka
- Unia Protestancka i Święta Liga

Zadanie 3 (5 punktów)

Wpisz daty roczne wymienionych poniżej ważnych wydarzeń z nowożytnej historii powszechnej. Uwaga: wydarzenia podane zostały w kolejności przypadkowej.

| Wydarzenie | Data |
|---|------|
| Defenestracja praska | |
| Uchwalenie Konstytucji Stanów Zjednoczonych Ameryki | |
| Bitwa pod Białą Górą | |
| Skonstruowanie przez Jamesa Watta pompy poruszanej siłą pary wodnej | |
| Ścięcie Karola I Stuarta | |

Zadanie 4 (1 punkt)

Odpowiedz na poniższe pytanie podkreślając wybraną przez siebie odpowiedź.

Który z wymienionych motywów jest godłem w herbie rodzinnym Wazów?

- waza
- rycerz
- snopek
- miecz

Zadanie 5 (1 punkt)

Odpowiedz na poniższe pytanie podkreślając wybraną przez siebie odpowiedź.

Który z wymienionych terminów **nie** jest nazwą jednej z sekt żydowskich, jakie działały na terenie Rzeczypospolitej w XVIII w.?

- sabbateiści
- frankiści
- chasydzi
- deiści

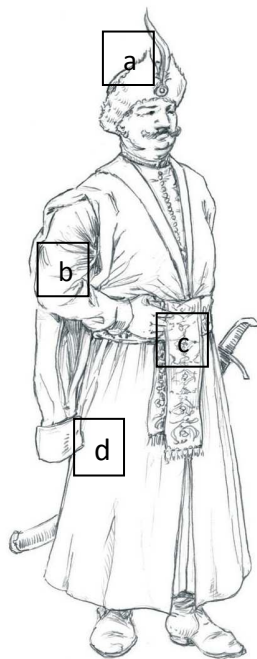
Zadanie 6 (8 punktów)

Uzupełnij poniższy tekst dotyczący sytuacji wyznaniowej w Rzeczypospolitej Obojga Narodów brakującymi nazwami własnymi lub geograficznymi.

Głównymi wyznaniem protestanckimi w Rzeczypospolitej były: (szczególnie popularny wśród szlachty) oraz (zyskujący zwolenników zwłaszcza wśród mieszczan niemieckiego pochodzenia). Z kolei wywodzący się z husytyzmu koncentrowali swą działalność przede wszystkim w Wielkopolsce, zaś głównym ich ośrodkiem było W drugiej połowie XVI w. z polskiego kalwinizmu wyodrębnił się arianie, nazywani inaczej W latach 1601-1638 prowadzili oni w Rakowie szkołę zwaną, w której uczono także przedmiotów ścisłych. Pod koniec XVI stulecia część prawosławnych biskupów polskich wyraziła życzenie przyłączenia się do Kościoła katolickiego, co doprowadziło do zawarcia w 1596 r. W wyniku tego aktu powstał Kościół grekokatolicki, zwany także

Zadanie 7 (4 punkty)

Podpisz zaznaczone na poniższej ilustracji charakterystyczne elementy stroju polskiego szlachcica



- a
- b
- c
- d

(Na podst.: www.wikipedia.pl)

Zadanie 8 (7 punktów)

Przyporządkuj do podanych niżej rozejmów i traktatów pokojowych daty ich podpisania, wybrane spośród zaproponowanych możliwości. Uwaga: wydarzenia podane zostały w kolejności przypadkowej, a niektóre daty nie będą nigdzie pasowały.

- a. Szwedzko-rosyjski traktat pokojowy w Stołbowie -
- b. Rozejm polsko-rosyjski w Jamie Zapolskim -
- c. Pokój wieczysty Polski z Rosją podpisany nad rzeką Polanówką -
- d. Polsko-rosyjski traktat w Andruszowie -
- e. Polsko-szwedzki traktat pokojowy w Oliwie -
- f. Polsko-turecki traktat w Buczaczu -
- g. Rozejm polsko-szwedzki w Sztumskiej Wsi -

Daty do wyboru: 1582, 1590, 1617, 1622, 1634, 1635, 1655, 1660, 1667, 1672, 1682

Zadanie 9 (4 punkty)

Przeczytaj przytoczony tekst źródłowy, a następnie – korzystając z wiedzy pozaźródłowej - **skreśl błędne elementy** poniższych zdań tak, aby powstały stwierdzenia prawdziwe.

Wreszcie, co się tyczy hrabiów, baronów, szlachty, wasali, miast, fundacji, klasztorów, gmin i poddanych bezpośrednich stanów Rzeszy, czy to duchownych, czy to świeckich, skoro tego rodzaju bezpośrednim stanom przysługuje z tytułu praw zwierzchnich na podstawie ogólnej praktyki stosowanej w całej Rzeszy prawo decydowana o przynależności religijnej poddanych, [...] Pokój religijny dał poddanym takich stanów możliwość emigracji, jeżeli nie zgadzają się z religią władcy terytorium, ponadto zaś gwoli utrzymania większej zgody między stanami zastrzeżono, że nie wolno nikomu przeciągać obcych poddanych na swoją wiarę religijną lub w tym celu brać ich w obronę, względnie patronować im z jakiegokolwiek powodu, przeto postanowiono zgodnie, że stany obu religii będą nadal tego przestrzegać i że nie należy przeszkadzać żadnemu stanowi w wykonywaniu prawa, które mu przysługuje w sprawach religii z tytułu zwierzchnictwa terytorialnego.

(Źródło: *Wiek XVI-XVIII w źródłach*, oprac. M. Sobańska-Bondaruk, S. B. Lenard, Warszawa 1997, s. 242)

- Cytowany fragment pochodzi z *aktu pokoju augsburskiego / traktatu westfalskiego*.
- Dokument ten został wydany w roku 1555 / 1648 i kończył wieloletnie walki zwane *wojnami chłopskimi / wojną trzydziestoletnią*.
- Akt ten *wprowadzał / znosił* zasadę „*cuius regio eius religio*”.

Zadanie 10 (9 punktów)

Przyporządkuj wymienione poniżej wydarzenia i zjawiska z historii nowożytnej do jednego z podanych krajów dopisując obok nazwy wydarzenia (zjawiska) odpowiednią literę. Uwaga: niektóre państwa nie będą nigdzie pasowały, zaś inne trzeba będzie przyporządkować kilkakrotnie.

- Noc św. Bartłomieja -
- Opricznina -
- Wielka smuta -
- Chwalebna (sławetna) rewolucja -
- Wielka Trwoga -
- Sobór Ziemski -
- Parlament kadłubowy -
- Sejm Niemy -
- Czarna procesja -

Państwa do wyboru: Anglia – A; Dania – D; Francja – F; Hiszpania – H; Polska – P; Rosja – R; Szwecja – Sz

Zadanie 11 (1 punkt)

Dokończ poniższe zdanie podkreślając wybraną przez siebie odpowiedź.

W 1653 r. Lordem protektorem ogłosił się:

- Oliwer Cromwell
- Wilhelm Orański
- Jakub I Stuart
- Karol II Stuart

Zadanie 12 (1 punkt)

Dokończ poniższe zdanie podkreślając wybraną przez siebie odpowiedź.

Powiedzenie „państwo to ja” przypisywane jest:

- Kardynałowi Richelieu
- Ludwikowi XIV
- Iwanowi IV Groźnemu
- Fryderykowi II

Zadanie 13 (1 punkt)

Przeczytaj przytoczony poniżej fragment poematu Sebastiana Fabiana Klonowica pt. *Flis: to jest spuszczenie statków Wisłą i innymi rzekami do niej przypadającymi* z 1595 r., a następnie – korzystając z informacji zawartych w cytacie oraz wiedzy pozaźródłowej - odpowiedź na pytanie o jakim mieście pisał XVI-wieczny autor?

*Tu w stradyjektach masz śmiałe bosmany,
Masz z dalekich stron kupce i ziemiany;
Przedawaj, kupuj, handluj, bij dłonią w dłoń,
Zysk sobie ugoń.
[...] Pójdźże zaś dalej, co cię potyka? Bowiem
Rzecz tobie, bracie, nieomylną powiem,
Jak przed sołtysem u gajnego prawa
Pójdzie twa sprawa [...]
Więc zatym najdą pozew być jałowy,
A ty, nieboże, znowu proś o nowy;
Słuchajże pieśni, niż zegar uderzy,
Choć cię już mierzi.
U dworu też zaś wytrwasz miesiąc ruski,
Niżli przybiją na drzwi rejestr pruski;
Rzeczysz: „prawie mi za żywe zabito
za moje żyto”*

(Źródło: N. Davies, *Boże Igrzysko. Historia Polski*, T. 1: *Od początków do roku 1795*, Kraków 1992, s. 358-359)

Chodzi o miasto:

Zadanie 14 (3 punkty)

Przyjrzyj się zamieszczonemu poniżej obrazowi, a następnie – korzystając z wiedzy pozaźródłowej – wypełnij podane polecenia.

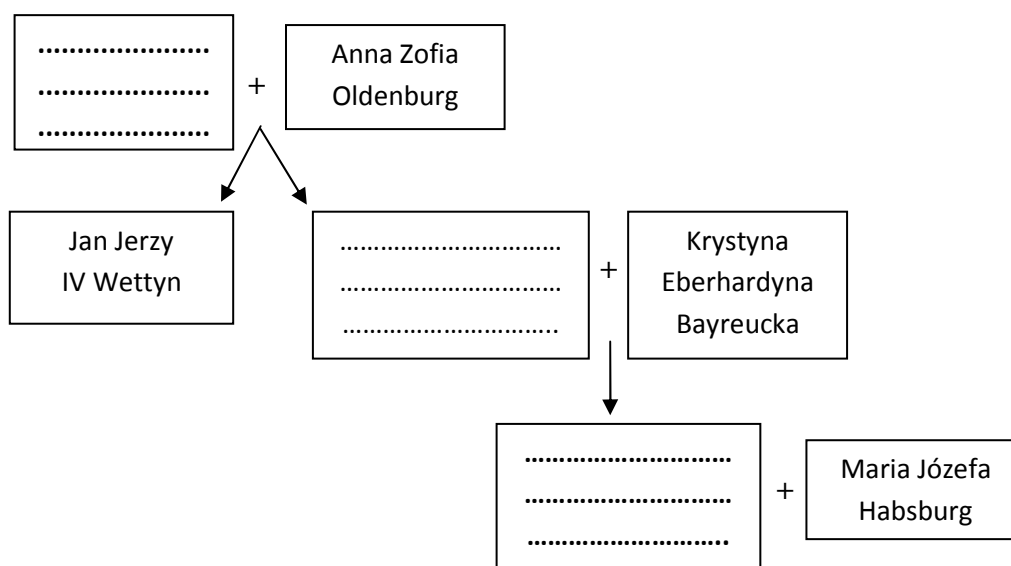


(Źródło: *Poczet Władców Polski*, wyd. Kluszczyński, Kraków [2003], s. 332)

- Podaj nazwę miejsca, w którym toczyły się przedstawione na obrazie walki. – Chodzi o
- Podaj datę roczną przedstawionych na obrazie wydarzeń. – Chodzi o rok
- Podaj nazwisko malarza, który jest autorem powyższego obrazu. – Chodzi o

Zadanie 15 (3 punkty)

Uzupełnij przedstawione poniżej drzewo genealogiczne polskich królów elekcyjnych, wpisując odpowiednie dane (imiona, ewentualnie cyfry, nazwisko) brakujących postaci. Uwaga: graf obrazuje przede wszystkim relacje rodzinne związane z obejmowaniem tronu Rzeczypospolitej.

**Zadanie 16 (2 punkty)**

Przeczytaj przytoczony poniżej fragment z *Pamiętników* Jana Chryzostoma Paska, opisujący jedną z elekcji polskiego króla, a następnie – korzystając z informacji zawartych w cytacie oraz wiedzy pozaźródłowej – wypełnij podane polecenia.

To się agituje, a Wielgopolacy już krzyczą: »Vivat rex!« Skoczy od nas kilku, na kogo wołają; przynieśli nowinę, że na Lotaryńczyka. W łęczyckiem województwie znowu i w brzeskiem kujawskiem intulerunt to, że »nam nie trzeba bogatego pana, bo on będzie bogatym, zostawszy krolem polskim. Nie trzeba nam z inszemi koligowanego monarchami, bo to jest periculum libertatis; ale nam, trzeba virum fortem, virum bellicosum. Gdybyśmy byli mieli Czarnieckiego, pewnieby był usiadł na tronie; że go nam Bóg wziął, obierzmy jego ucznia, obierzmy Polan[ow]skiego«. To się agituje, ja per curiositatem skoczyłem do Sandomirzanów, którzy najbliżej nas stali, aż tam trafiłem na tę materyą, że życzą sobie de sanguine gentis i mówią: »Niewieleby nam trzeba szukać króla, mamy go między sobą. Wspomniawszy na cnotę i poczciwość i przeciwko ojczyźnie wielkie merita księcia ś. pamięci Hieremiego Wiśniowieckiego, słusznaby rzecz zawdzięczyć to jego posteritati. Owo jest książę J-o Mość Michał, czemuż go nie mamy mianować? Alboż nie z dawna wielkich książąt familiej? Alboż nie godzien korony?« A on siedzi między szlachtą pokorniusieńki, skurczył się, nic nie mówi.[...] A tym czasem hukną w sandomirskiem: »Vivat Piast!«. Dębicki, podkomorzy, ciska czapkę do góry, wrzeszczy na wszystkich głos: »Vivat Piast! Vivat rex Michael!« A tu też nasi Krakowianie: »Vivat Piast!« Rozbieży się nas kilka między województwa insze z musztułukiem, wołając: »Vivat Piast!« Łęczycanie i Kujawianie, rozumiejąc, że na ich Polanowskiego, poczęli zaraz też wołać; insze województwa też. Wrócę się nazad do swoich, a tu go już biorą pod rękę, biorą go do koła. Starczyzna nasza krakowska negat, contradicit (bo od inszych pieniędzy dużo nabrali i obietnice mieli wielkie), osobliwie Pisarski i Lipski, mówiąc: »Dla Boga! co czyniemy? Czy nas szaleństwo ogarnęło? Stojmy! tak nie może to być«. Pan krakowski już od nas odstąpił, bo to jego był krewny; tam jest przy nominacie. Inszych senatorow idzie obwiam wiele. Jedni powtarzają, drudzy też milczą. Rzecz do mnie Pisarski (bo też on mię przecię miał w powadze): »Mści panie Bracie, co w tym terminie rozumiesz?« Odpowiem: »To rozumiem, co mi Bóg do serca podał: Vivat rex Michael!« Potym zaraz wyjadę z szerega, skoczę za Sandomirzanami; co żywo, za mną, że i chorążowie

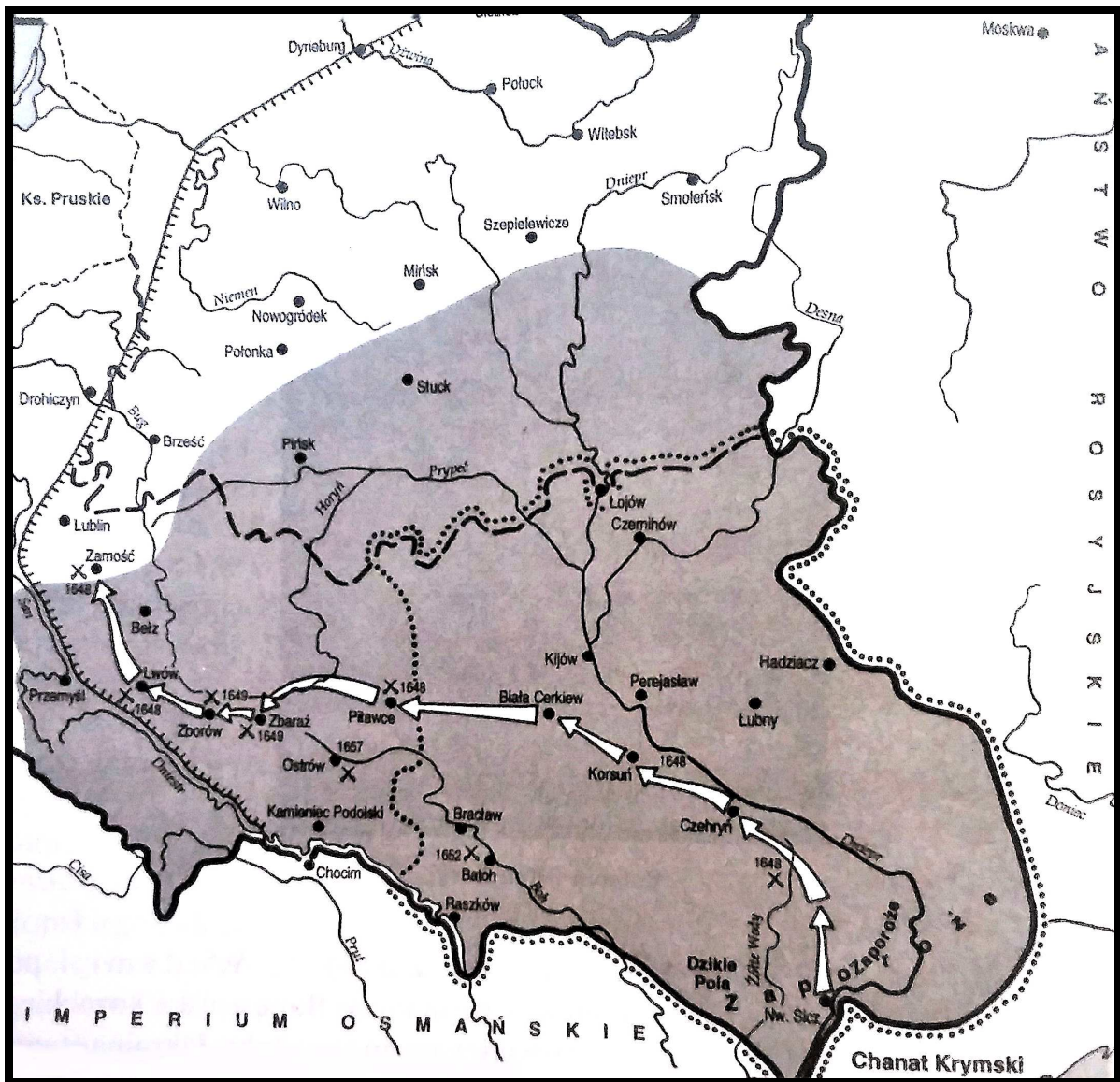
z chorągwiami musieli, a Pisarski, czapką tylko o łeb uderzywszy, pojechał na stronę. Wprowadziliśmy go tedy do koła szczęśliwie. Tam dopiero gratulationes, tam dopiero pocięcha dobrych, a smutek złych.

(Źródło: N. Davies, *Boże Igrzysko. Historia Polski, T. 1: Od początków do roku 1795*, Kraków 1992, s. 441-442)

- Podaj imię lub imiona, ewentualnie cyfrę i nazwisko króla, którego elekcję na tron polski opisywał w cytowanym fragmencie Jan Chryzostom Pasek. – Chodzi o
- Podaj datę roczną opisywanej przez Paska elekcji. – Chodzi o rok.....

Zadanie 17 (4 punkty)

Przeanalizuj mapę zamieszczoną poniżej, a następnie – korzystając z wiedzy pozaźródłowej – wypełnij podane polecenia.



(Na podst.: A. Dybkowska, J. Żaryn, M. Żaryn, *Polskie dzieje od czasów najdawniejszych do współczesności*, Warszawa 1994, s. 124)

- Skreśl błędne elementy poniższych zdań tak, aby powstały stwierdzenia prawdziwe: Powyższa mapa przedstawia wojny *polsko-kozackie* / *polsko-tureckie* toczone w XVII w. Zaznaczone na niej bitwy nad Żółtymi Wodami i pod Piławcami zakończyły się *zwycięstwem* / *kłęską* armii koronnej. Natomiast kropkowana linia określa granicę Księstwa Ruskiego ustalone w 1658 r. na mocy *ugody zborowskiej* / *ugody hadziackiej*.
- Podaj imię i nazwisko przywódcy stojącego na czele antypolskiego wystąpienia, którego przebieg przedstawia załączona mapa. – Chodzi o

Zadanie 18 (1 punkt)

Dokończ poniższe zdanie podkreślając wybraną przez siebie odpowiedź.
Maciej Kazimierz Sarbiewski (1595 – 1640) był:

- a. ostatnim wielkim poetą nowołacińskim, który zyskał światową sławę
- b. wybitnym nadwornym architektem doby baroku
- c. malarzem cenionym przez pierwszych królów elekcyjnych
- d. twórcą dzieł wokalnie-instrumentalnych i pierwszych polskich oper

Zadanie 19 (1 punkt)

Odpowiedz na poniższe pytanie podkreślając wybraną przez siebie odpowiedź.
Który z elekcyjnych władców polskich przywdział okresowo habit jezuicki?

- a. Zygmunt III Waza
- b. Jan II Kazimierz Waza
- c. Władysław IV Waza
- d. Stanisław Leszczyński

Zadanie 20 (4 punkty)

Przyjrzyj się zamieszczonym poniżej obrazom przedstawiającym polskie królowe doby elekcyjnej, a następnie – korzystając z wiedzy pozaźródłowej - podaj ich imiona i nazwiska oraz personalia (imię, ewentualnie cyfrę, nazwisko) ich królewskich małżonków.



(Źródło: *Poczet Władców Polski*, wyd. Kluszczyński, Kraków [2003], s. 298, 343)

- a.
żona.....
- b.
żona

Zadanie 21 (1 punkt)

Odpowiedz na poniższe pytanie podkreślając wybraną przez siebie odpowiedź.

Jakie było prawdziwe nazwisko włoskiego artysty, nadwornego malarza Stanisława Augusta Poniatowskiego, który zasłynął z licznych wedyt (tj. pejzaży) przedstawiających Warszawę?

- a. Bellotto
- b. Tiepolo
- c. Bacciarelli
- d. Merlini


Zadanie 22 (4 punkty)

Określ, które z poniższych zdań jest prawdziwe, a które fałszywe wpisując obok nich odpowiednio „prawda” lub „fałsz”. Uwaga, wszystkie zdania mogą być również prawdziwe i wszystkie fałszywe.

- a. Do najwybitniejszych przykładów barokowej rzeźby zalicza się baldachim nad grobem św. Piotra oraz *Ekstazę św. Teresy* dłuta Berniniego -
- b. Pierwszy piorunochron skonstruował w 1752 r. amerykański polityk Benjamin Franklin -
- c. „Spectator” to tytuł znanego oświeceniowego tygodnika kulturalno-obyczajowego, wydawanego w Anglii od 1711 r. -
- d. Domniemany prawowity spadkobierca tronu Iwana Groźnego - Dymitr Samozwaniec - pojął za żonę córkę wojewody sandomierskiego Marynę Mniszchównę -

Zadanie 23 (2 punkty)

Przyjrzyj się zamieszczonym poniżej rysunkom, jakie ukazywały się w prasie i drukach ulotnych w związku z ważnymi momentami z nowożytnej historii powszechnej, a następnie - korzystając z wiedzy pozaźródłowej – zapisz nazwę wydarzeń, których dotyczyły.



(Źródło: <http://www.szkolnictwo.pl>)

- a. b.
-

Zadanie 24 (2 punkty)

Wśród wymienionych wydarzeń wskaż to, które było chronologicznie pierwsze (wpisz obok literę „P”) i chronologicznie ostatnie (wpisz obok literę „O”):

- a. pierwsze liberum veto Władysława Sycińskiego -
- b. wybuch powstania kozacko-chłopskiego na Ukrainie pod wodzą Semena Paleja i Iwana Samusia -
- c. podpisanie pokoju w Nystad -
- d. założenie Collegium Nobilium -
- e. zawiązanie konfederacji barskiej -
- f. sejm pacyfikacyjny, ogłaszający amnestię dla uczestników konfederacji dzikowskiej -
- g. abdykacja Stanisława Leszczyńskiego -
- h. koronacja Fryderyka I Hohenzollerna na króla Prus -

Zadanie 25 (4 punkty)

Do wymienionych poniżej tytułów dzieł piśmiennictwa oświeceniowego dopisz imiona i nazwiska ich autorów:

- a. *Traktat o tolerancji* -
- b. *Podróże Guliwera* -
- c. *Umowa społeczna* -
- d. *Listy o Angielczykach* -

Zadanie 26 (4 punkty)

Wśród wymienionych poniżej postaci wskaż podkreślając ich nazwiska:

- a. dwóch polskich dowódców, którzy zasłużyli się w wojnie o niepodległość Stanów Zjednoczonych

Jakub Jasiński, Kazimierz Pułaski, Karol Kniaziewicz, Tadeusz Kościuszko, Józef Poniatowski, Józef Pułaski

- b. dwóch głównych francuskich encyklopedystów doby oświecenia

Denis Diderot, Piotr Augustyn Beaumarchais, Jan Le Rond d'Alembert, Georges Danton, Antoni Lavoisier, Mikołaj Cugnot

Zadanie 27 (3 punkty)

Przyjrzyj się zamieszczonej poniżej ilustracji, a następnie – korzystając z wiedzy pozaźródłowej - udziel odpowiedzi na następujące pytania:



(Źródło: <http://www.muzeumwp.pl>)

- a. Jaką nazwę nosi odznaczenie przedstawione na ilustracji? – Jest to
- b. Który polski władca elekcyjny podjął decyzję o ustanowieniu tego odznaczenia (proszę podać jego imię lub imiona, ewentualnie cyfrę i nazwisko)? – Chodzi o
- c. W którym roku ustanowiono przedstawione odznaczenie? – Chodzi o rok

Zadanie 28 (4 punkty)

Wymień władze, jakie wyróżniono według zasady **trójpodziału władzy** sformułowanej w dziele pt. *O duchu praw* z 1748 r.; a następnie podaj nazwisko francuskiego pisarza politycznego będącego autorem tej teorii.

- a.
- b.
- c.

Autor zasady trójpodziału władzy to:

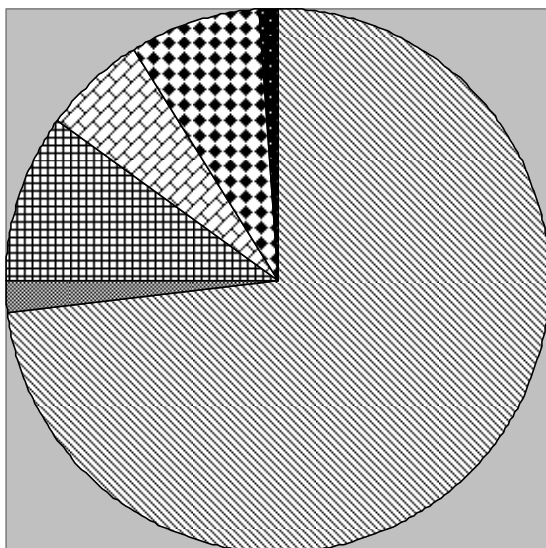
Zadanie 29 (6 punktów)

Uzupełnij poniższą tabelkę, obrazującą zdobycze terytorialne (w km²) poszczególnych zaborców Rzeczypospolitej, wpisując w wykropkowane miejsca nazwy państw zaborczych oraz daty poszczególnych rozbiorów.

| Zaborca Rozbiór | | | | Razem |
|--------------------|-------|-------|-------|-------|
| rok | 93 | 36 | 82 | 211 |
| rok | 250 | 58 | -- | 308 |
|rok | 120 | 48 | 47 | 215 |
| Razem | 463 | 142 | 129 | 734 |

Zadanie 30 (4 punkty)

Bazując na informacjach zawartych w lekturze konkursowej (N. Davis, *Boże Igrzysko*) uzupełnij brakujące podpisy w legendzie poniższego wykresu kołowego, który przedstawia podział społeczeństwa Rzeczypospolitej Polskiej na grupy społeczne w 1791 r.



- a. 73% -
- b. 2% - różni (Tatarzy, Ormianie)
- c. 10% - Żydzi
- d. 6% -
- e. 8% -
- f. 1% -

Brudnopis